


Venn Diagram

उस पेन आरेख का चयन करें जो दिये गये वर्गों के बीच के संबंधों को अच्छे तरीके से निरूपित करता है।


1. टैक्सो, जापान, गश्िया

उत्तर ->




2. महिला, माता, पिता

उत्तर ->




3. अंगूठे, उगलियाँ, आमाशय

उत्तर ->



4. शुक्र ग्रह चन्द्रमा

उत्तर ->



5. फर्नीचर, कुर्सी, मेज

उत्तर ->



ROJGAR WITH ANKIT

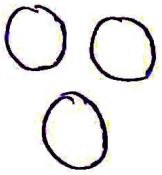
6. > जीव विज्ञान, जन्तु विज्ञान, प्राणीशास्त्र

उत्तर ->




7. > बिम्बी, बक्सा, फल

त्तर ->



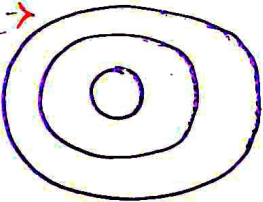
8. > तैलगू, उई, कविता

उत्तर ->



9. > वर्गी के उस विकल्प का चयन करे। जो दिये गये पेन आरेख द्वारा बेहतर तरीके से निरूपित किया जाता है।

उत्तर ->



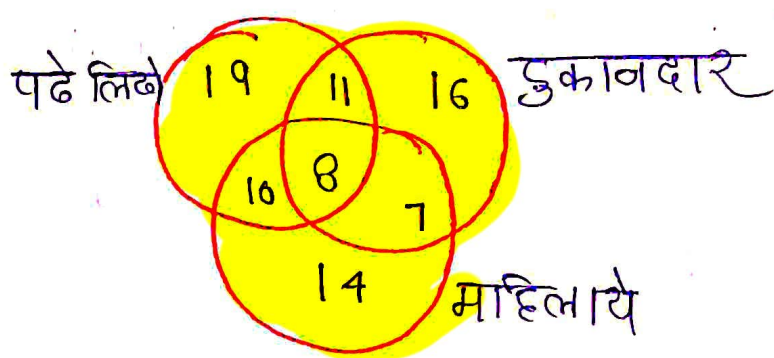
चिडकी, भवन, कमरा

ROJGAR WITH ANKIT

- 10> दिये गये चित्र की ध्यान से देखें ।
 ऊपर प्रश्न का उत्तर है । विभिन्न अनुभागों की संख्या दर्शाती है । जो विभिन्न प्रकार के टीवी चैनल देखना पसन्द करते हैं ।
 ऐसे कितने व्यक्ति हैं । जो खेल और कार्ड्स दोनों चैनल देखना पसन्द करते हैं ।

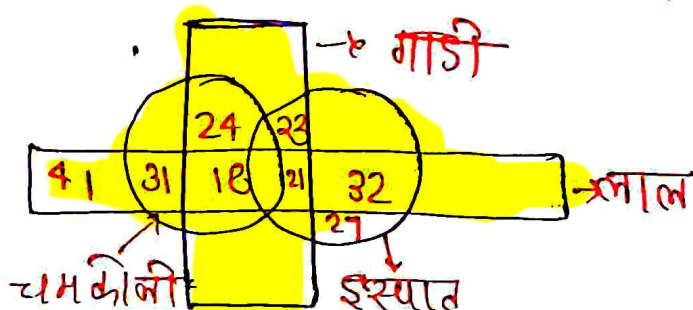
- 11> विभिन्न वर्गों / खंडों की संख्याये व्यक्तियों की संख्या की दर्शाती है ।

ऐसे कितने दुकानदार हैं । जो पढ़े लिखे हैं ।
 लेकिन महिलाये नहीं हैं ?



प्रश्न - 11

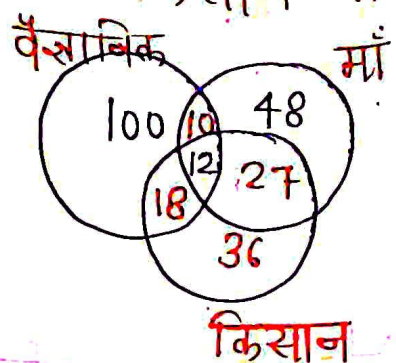
- 2> दी गयी आकृति में कितनी मातृ गाडियाँ या तो इस्पात हैं । या तो चमकीली हैं । परंतु दोनों नहीं



उत्तर - 39

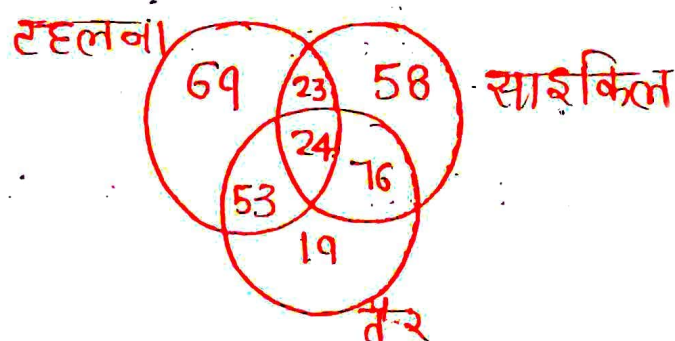
ROJGAR WITH ANKIT

3) कितने किसान माँ हैं और वैज्ञानिक नहीं।



उत्तर - 27

4) विभिन्न वर्गों में दी गई संख्याएँ उन व्यक्तियों की संख्या को दर्शाती हैं। जो विभिन्न गतिविधियों में लगे हुए हैं। ऐसे कितने व्यक्ति हैं। जो तैर नहीं सकते हैं?



उत्तर - 150

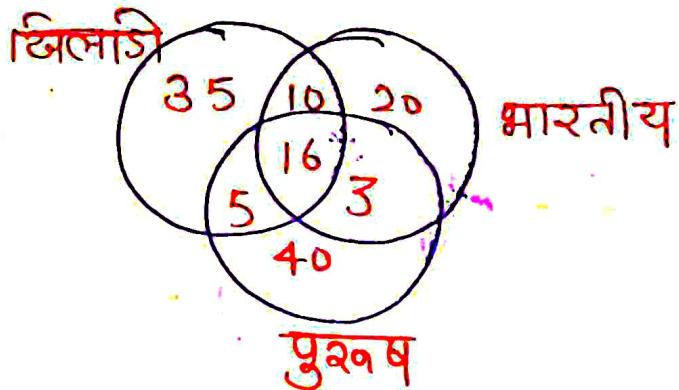
5) कितने गायक लेखक और शोधकर्ता नहीं हैं?



उत्तर - 50

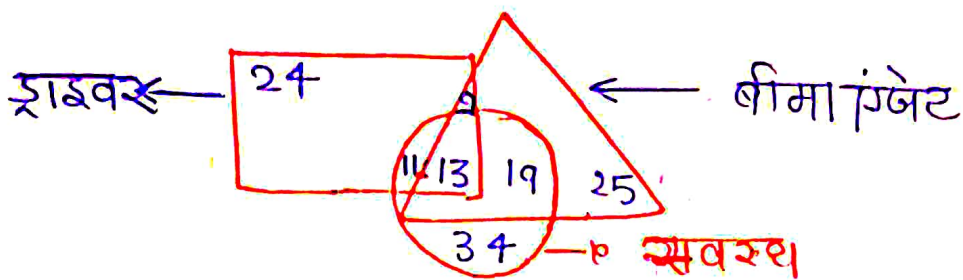
ROJGAR WITH ANKIT

16) विभिन्न सेशन की संख्याये व्यक्तियों की संख्या को
 कितने भारतीय हैं?



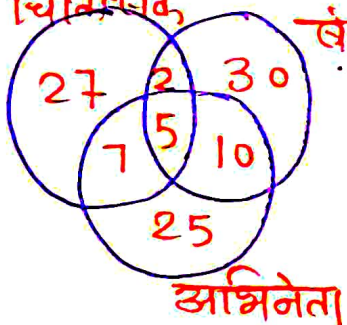
उत्तर * 49

17) ऐसे कितने बीमा पंजेर हैं। जो शाइवर तो हैं।
 लेकिन सवस्थ नहीं हैं ?



उत्तर - 9

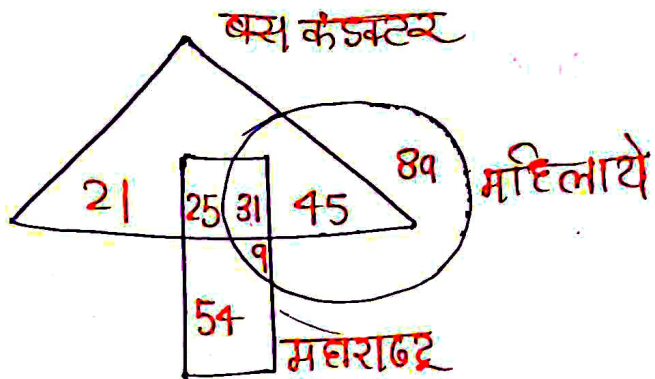
18) कितने अभिनेता खेकर हैं लेकिन दंत चिकित्सक नहीं हैं
 दंत चिकित्सक खेकर



उत्तर * 10

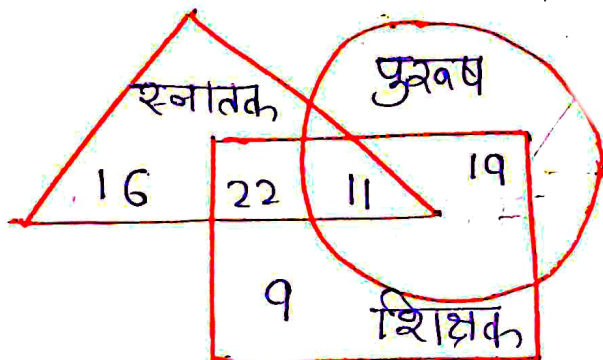
ROJGAR WITH ANKIT

196. ऐसी कितनी महिलाएँ हैं जो महाराष्ट्र से हैं ?



उत्तर \rightarrow 40

207. ऐसे कितने शिक्षक हैं जो न तो पुरुष और न ही स्नातक हैं ?



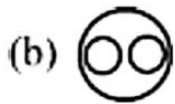
उत्तर \rightarrow 9

1. Select the Venn diagram that best represents the relationship between the given classes.

Fibre, Cotton, Jute

उस वेन आरेख का चयन करें जो दिये गये वर्गों के बीच के संबंध को सर्वोत्तम ढंग से निरूपित करता है।

फाइबर, कॉटन, जूट

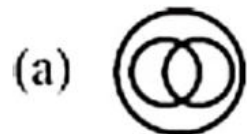


2. Select the Venn diagram that best represents the relationship between the given classes.

Cow, Wild Animal, Fox

उस वेन आरेख का चयन करें जो दिए गए वर्गों के बीच के संबंध को सर्वोत्तम ढंग से निरूपित करता है?

गाय, जंगली जानवर, लोमड़ी

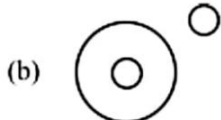


3. Select the Venn diagram that best represents the relationship between the given classes.

Diseases, Night Blindness, Cancer

दी गई श्रेणियों के बीच सर्वश्रेष्ठ संबंध को दर्शाने वाले वेन आरेख का चयन कीजिए।

बीमारियाँ, रतौंधी, कैंसर


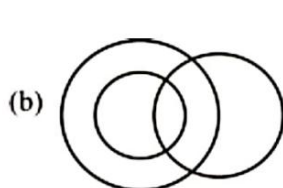
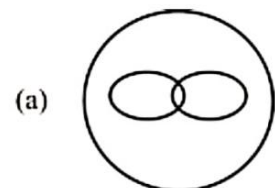


4. Select the Venn diagram that best represents the relationship between the given classes.

Graduates, Teachers, Literate

दी गई श्रेणियों के बीच सर्वश्रेष्ठ संबंध को दर्शाने वाले वेन आरेख का चयन कीजिए।

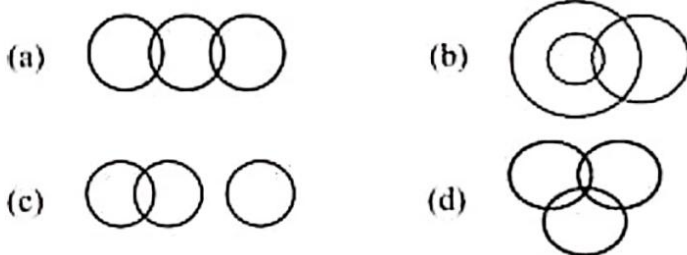
स्नातक, शिक्षक, साक्षर



5. Select the Venn diagram that best represents the relationship between the following classes-

Flower, Rose, Yellow

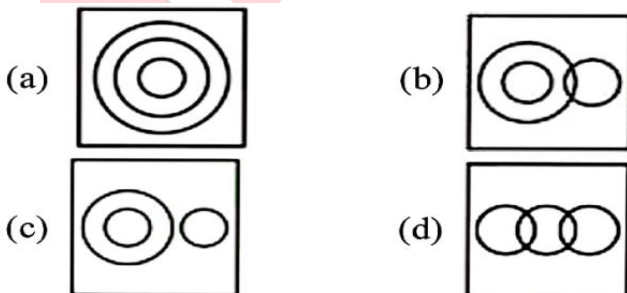
उस वेन आरेख का चयन करें जो निम्नलिखित वर्गों के बीच के संबंध को सबसे अच्छा दर्शाता है-
फूल, गुलाब, पीला



6. Select the diagram that correctly represents the relationship between the given classes.

Men, Doctors, Engineers

वह आरेख चुनिए जो नीचे दिए गए वर्गों के बीच के संबंध का सही निरूपण करता है।
पुरुष, डॉक्टर, इंजीनियर



7. The Venn diagram given in the question best represents the relationship between the given items in which of the following options.

प्रश्न में दिए गए वेन आरेख निम्न विकल्पों में से किसमें दिए गए आइटम के बीच के संबंध को दर्शाता है।

- (a) सेब, फल और सब्जियां
(b) पृथ्वी, ग्रह और बृहस्पति
(c) टेबल, कुर्सियाँ और फर्नीचर
(d) खेल, क्रिकेट और टेनिस

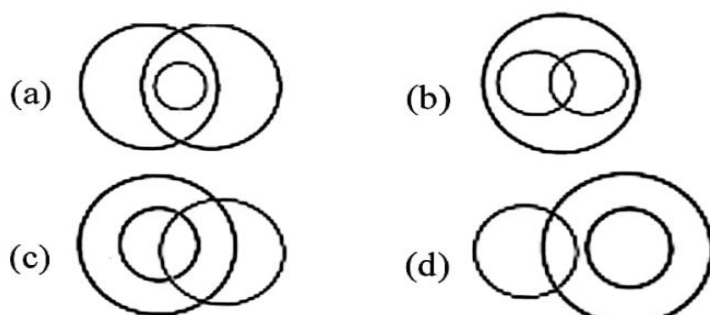


8. Select the Venn diagram that best represents the relationship between the following classes.

Women, Businessmen, Mothers

उस वेन आरेख का चयन करें, जो निम्न वर्गों के बीच संबंध को सर्वोत्तम ढंग से निरूपित करता है।

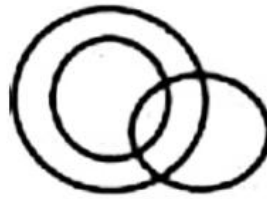
महिलाएं, व्यवसायी, माताएँ



9. Which of the following options can be correctly represented by the Venn diagram given below?

निम्न में से कौन-सा विकल्प नीचे दिए गए वेन आरेख के द्वारा सही रूप से निरूपित किया जा सकता है?

- (a) माताएँ, डॉक्टर, महिलाएँ
- (b) संगीतकार, अध्यापक, अभियंता
- (c) पत्र, डाकघर, कागज़
- (d) पुस्तक, कापी, छात्र

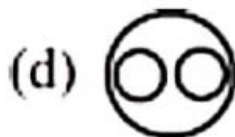
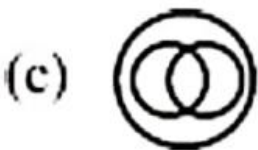
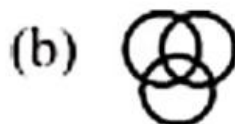


10. Select the Venn diagram that best represents the relationship between the given classes.

Men, Doctors, Singers

उस वेन आरेख का चयन करें, जो दिये गये वर्गों के बीच के संबंध को सर्वोत्तम ढंग से प्रदर्शित करता है।

पुरुष, डॉक्टर, गायक



11. Select the Venn diagram that best represents the relationship between the given classes.

Star, Sun, Mercury

उस वेन आरेख का चयन करें, जो दिए गए वर्गों के बीच के संबंध को सर्वोत्तम ढंग से निरूपित करता है।

तारा, सूर्य, बुध

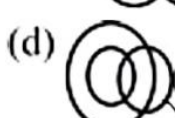
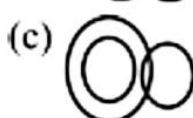
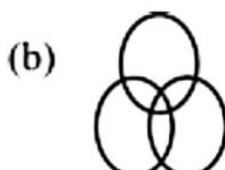


12. Select the Venn diagram that best represents the relationship between the given classes.

Graduate, literate, hardworking

दी गई श्रेणियों के बीच सर्वश्रेष्ठ संबंध को दर्शाने वाले वेन आरेख का चयन कीजिए।

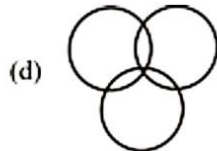
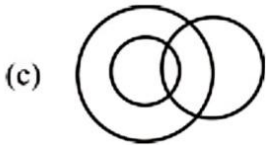
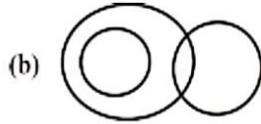
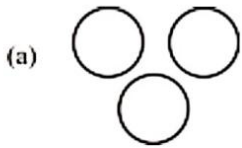
स्नातक, साक्षर, परिश्रमी



13. Select the Venn diagram that best represents the relationship between the following classes.

Doctors, men, brothers

उस वेन आरेख का चयन करें, जो निम्नलिखित वर्गों के बीच के संबंध को सबसे अच्छा दर्शाता है।
चिकित्सकगण, पुरुष, भाई

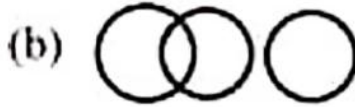


14. Which of the following Venn diagrams best represents the relationship between the classes given below?

Utensils, spoons, steel articles

निम्नलिखित में से कौन-सा वेन आरेख, नीचे दिए गए वर्गों के बीच के संबंधों को सर्वोत्तम ढंग से दर्शाता है?

वर्तन, चम्मच, स्टील की वस्तुएँ



15. Select the Venn diagram that best represents the given set of classes?

उस वेन आरेख का चयन करें जो दिए गए वर्गों के समूह को सर्वोत्तम ढंग से दर्शाता है?

(a) फर्नीचर, प्लास्टिक, थैला

(b) फर्नीचर, कुर्सी, किताब

(c) भारत, मानसून, मरूस्थल

(d) तालाब, झरना, नदी



16. Select the set of classes whose relationship between them is best represented by the following Venn diagram.

वर्गों के उस समुच्चय का चयन करें, जिनके बीच संबंध को निम्न वेन आरेख द्वारा सर्वोत्तम ढंग से निरूपित किया गया है।

(a) गन्ना, फल, दूध

(b) कार, बस, साइकिल

(c) मोटर साइकिल, वाहन, स्कूटर

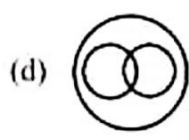
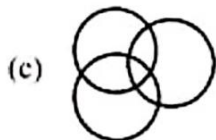
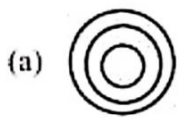
(d) मसाले, जीरा, धातु



17. Select the Venn diagram that best represents the relationship between the following classes.

Food Items, Bananas, Fruits

उस वेन आरेख का चयन करें, जो निम्न वर्गों के मध्य संबंध का सर्वश्रेष्ठ निरूपण करता है।
खाद्य पदार्थ, केले, फल

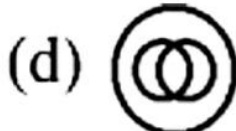


18. Select the Venn diagram that best represents the relationship between the given classes.

Copper, Metal, Iron

उस वेन आरेख का चयन करें, जो दिए गए वर्गों के बीच के संबंध को सर्वोत्तम ढंग से निरूपित करता है।

ताँबा, धातु, लोहा

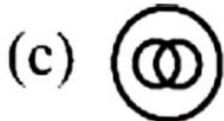


19. Select the Venn diagram that best represents the relationship between the given classes.

Days, Hours, Weeks

उस वेन आरेख का चयन करें, जो दिए गए वर्गों के बीच के संबंध को सर्वोत्तम ढंग से निरूपित करता है।


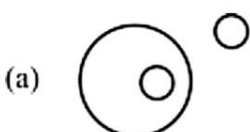
दिन, घंटे, सप्ताह



20. Select the Venn diagram that best represents the relationship between the given classes.

Wheat, Mustard, Cabbage

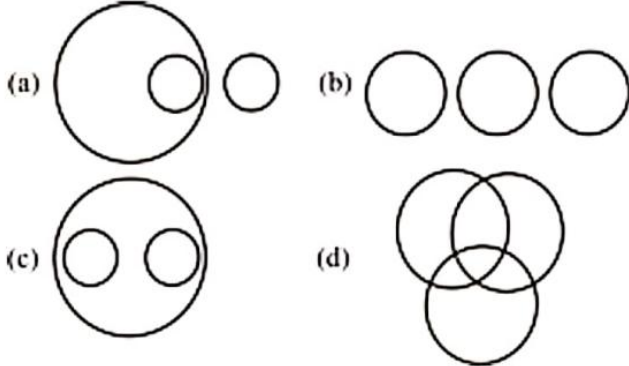
दी गई श्रेणियों के बीच सर्वश्रेष्ठ संबंध को दर्शाने वाले वेन आरेख का चयन कीजिए।
गेहूँ, सरसों, गोभी



21. Select the Venn diagram that best represents the relationship between the given classes.

Players, Musicians, Students

दी गई श्रेणियों के बीच सर्वश्रेष्ठ संबंध को दर्शाने वाले वेन आरेख का चयन कीजिए।
खिलाड़ी, संगीतकार, विद्यार्थी

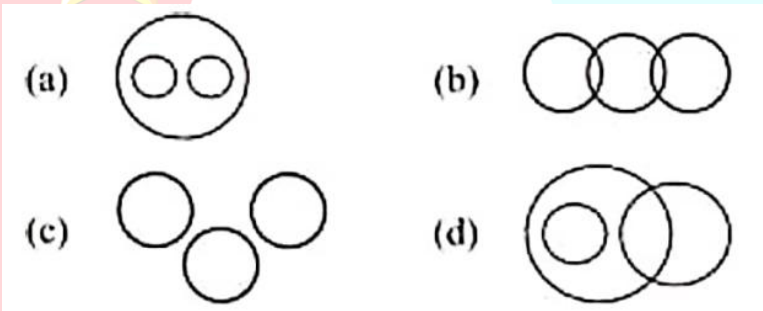


22. Select the Venn diagram that best represents the relationship between the given classes.

Players, Musicians, Students

उस वेन आरेख का चयन करें जो निम्नलिखित वर्गों के बीच के संबंध को सबसे अच्छा दर्शाता है।

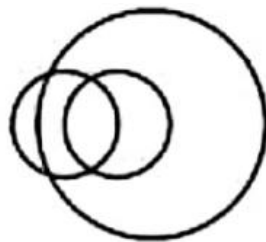
वकील, वास्तुकार, मनुष्य



23. The Venn diagram given in the question best represents the relationship between the objects given in which of the following options?

प्रश्न में दिया गया वेन आरेख निम्नलिखित में से किस विकल्प में दी गई वस्तुओं के बीच संबंध को दर्शाता है?

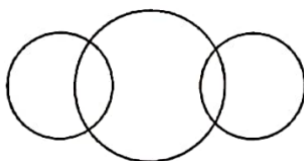
- (a) पिता, पुरुष, अध्यापक
- (b) गाय, भैंस, पशु
- (c) ठोस, द्रव, गैस
- (d) पीला, लाल, रंग



24. Select the Venn diagram that best represents the given set of classes.

उस वेन आरेख का चयन करें जो दिए गए वर्गों के समूह को सर्वोत्तम ढंग से दर्शाता है?

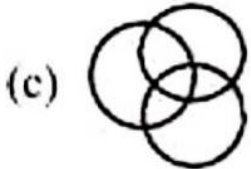
- (a) लड़का, लड़की, दूल्हा
- (b) पानी, नमक, सोडा
- (c) पुरुष, शिक्षक, औजार
- (d) प्राचार्य, पुरुष, महिला



25. Select the Venn diagram that best represents the relationship between the following classes.

Men, Women, Daughters

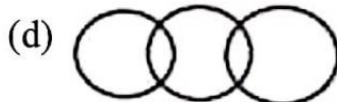
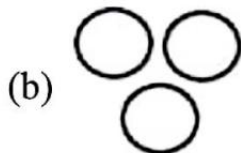
उस वेन आरेख का चयन करें, जो निम्न वर्गों के मध्य संबंध का सर्वश्रेष्ठ निरूपण करता है।
पुरुष, महिलाएँ, बेटियाँ



26. Select the Venn diagram that best represents the relationship between the following classes-

Entrance Test, Question, Practice Test

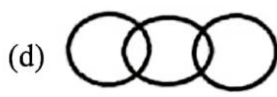
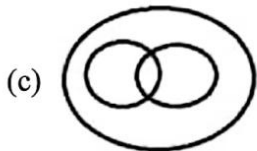

उस वेन आरेख का चयन करें जो निम्नलिखित वर्गों के बीच संबंध को सर्वोत्तम रूप से दर्शाता है-
प्रवेश परीक्षण, प्रश्न, अभ्यास परीक्षण



27. Select the Venn diagram that best represents the relationship between the following classes.

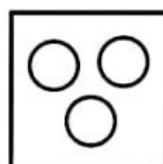
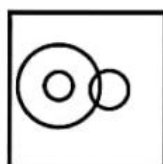
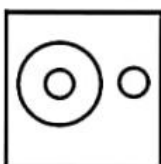
Yamuna, River, Narmada

उस वेन आरेख का चयन करें जो निम्नलिखित वर्गों के मध्य संबंधों को सर्वोत्तम तरीके से निरूपित करता है।
यमुना, नदी, नर्मदा



28. Which of the following diagrams shows the relationship between building, gravel, pebbles?

निम्न में से कौन सा आरेख इमारत, बजरी, रोड़ी के बीच सम्बन्ध को दर्शाता है?



(a)

(b)

(c)

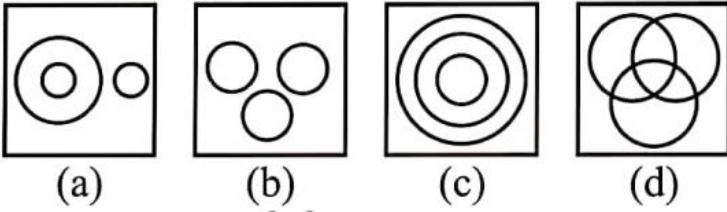
(d)

29. Which of the following diagrams shows the relationship between all of these.

Ireland, Dublin, Greece

निम्नलिखित आरेख में से कौन इन सबके बीच रिश्ता दर्शाता है।

आयरलैंड, डबलिन, यूनान

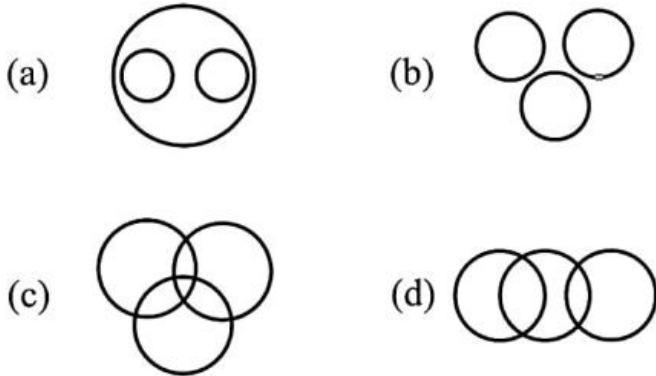


30. Which of the following diagrams shows the relationship between the following.

Nucleus, Proton, Neutron

निम्नलिखित आरेखों में से कौन सा निम्न वर्णित के बीच रिश्ता दर्शाता है।

नाभिक, प्रोटॉन, न्यूट्रॉन

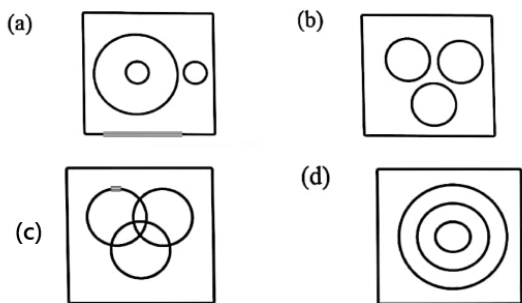


31. Which of the following figure options shows the relationship between the following.

Silchar, Assam, India

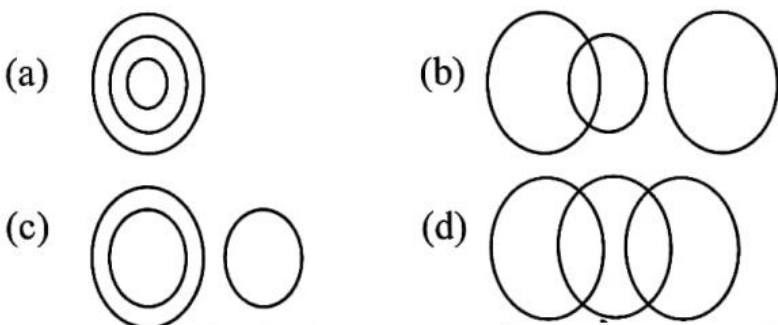
निम्न आकृतियों के विकल्पों में से कौन सी आकृति निम्न वर्णित के बीच संबंध को दर्शाती है-

सिलचर, असम, भारत



32. Which of the following diagrams best represents Qutub Minar, Delhi, and Eiffel Tower?

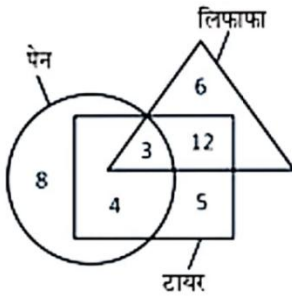
निम्नलिखित में से कौन-सा आरेख कुतुबमीनार, दिल्ली, और एफिल टॉवर का सर्वोत्तम प्रतिनिधित्व करता है?



33. In the given diagram, how many envelopes are there which are not pens.

दिये गये आरेख में, कितने लिफाफे हैं जो पेन नहीं हैं।

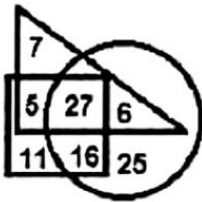
- (a) 7
(b) 18
(c) 12
(d) 15



34. In the following diagram, 'circle' represents 'policemen', 'square' represents 'sportsmen', and 'triangle' represents 'taxpayers'. The numbers given in different sections represent the number of persons belonging to that category. How many policemen are taxpayers but not sportsmen?

निम्नलिखित आरेख में, 'वृत्त', 'पुलिसकर्मियों' को निरूपित करता है, 'वर्ग', 'खिलाड़ियों' को निरूपित करता है, और 'त्रिभुज', 'करदाताओं' को निरूपित करता है। विभिन्न खंडों में दी गई संख्याएं उस श्रेणी से संबंधित व्यक्तियों की संख्या को दर्शाती हैं। कितने पुलिसकर्मी, करदाता हैं लेकिन खिलाड़ी नहीं हैं?

- (a) 22
(b) 6
(c) 33
(d) 27

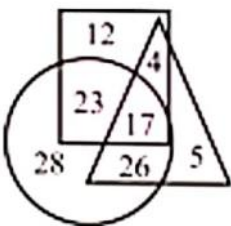


35. In the following Venn diagram, square represents inspectors, triangle represents home owners, and circle represents Indians. The given numbers represent the number of persons in that particular category.

How many Indian inspectors are there who are home owners?

निम्न वेन आरेख में, वर्ग, निरीक्षकों को दर्शाता है, त्रिभुज, गृह स्वामियों को दर्शाता है, और वृत्त, भारतीयों को दर्शाता है। दी गई संख्याएं उस विशिष्ट वर्ग में व्यक्तियों की संख्या दर्शाती हैं। कितने भारतीय निरीक्षक ऐसे हैं जो गृह स्वामी भी हैं?

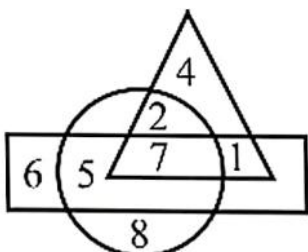
- (a) 26
(b) 17
(c) 23
(d) 40



36. In the given Venn diagram, 'circle' represents 'players', 'triangle' represents 'graduates' and 'rectangle' represents 'managers'. Which number represents the sector which represents graduate players who are not managers?

दिए गए वेन आरेख में 'वृत्त' 'खिलाड़ियों' का प्रतिनिधित्व करता है, 'त्रिभुज' 'स्नातकों' का प्रतिनिधित्व करता है और 'आयत' 'प्रबंधकों' का प्रतिनिधित्व करता है। कौन सी संख्या उस क्षेत्र को दर्शाती है, जो ऐसे स्नातक खिलाड़ियों का प्रतिनिधित्व करता है जो प्रबंधक नहीं हैं?

- (a) 1
(b) 5
(c) 7
(d) 2



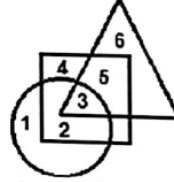
37. In the following diagram, 'circle' represents 'soldiers', 'square' represents 'Indians' and 'triangle' represents 'singers'. The numbers given in different segments indicate the number of persons belonging to that category.

The number '5' represents which category?

निम्नलिखित आरेख में, 'वृत्त', 'सैनिकों' को निरूपित करता है, 'वर्ग', 'भारतीयों' को निरूपित करता है, और 'त्रिभुज', 'गायकों' को निरूपित करता है। विभिन्न खंडों में दी गई संख्याएं उस श्रेणी से संबंधित व्यक्तियों की संख्या को दर्शाती हैं।

संख्या '5' किस श्रेणी को दर्शाती है ?

- (a) भारतीय गायक, जो सैनिक हैं।
 (b) भारतीय गायक, जो सैनिक नहीं हैं।
 (c) भारतीय सैनिक, जो गायक नहीं हैं।
 (d) भारतीय, जो न तो गायक हैं और न ही सैनिक हैं।



38. How many clothes are trousers?

कितने कपड़े पतलून हैं?

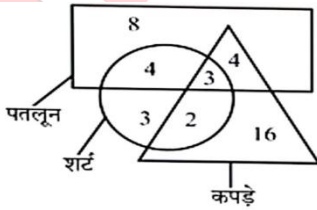
(Trouser : पतलून, Shirt : कमीज, Dress : कपड़े)

(a) 4

(b) 5

(c) 7

(d) 3



39. In the given figure, pentagon represents 'Nepali words', circle represents 'Hindi words', rectangle represents 'English words', and square represents 'Persian words'.

Which number represents those English and Persian words which are included in Hindi words?

दी गई आकृति में, पंचभुज 'नेपाली शब्दों' को निरूपित करता है, वृत्त 'हिन्दी शब्दों' को निरूपित करता है, आयत 'अंग्रेजी शब्दों' को निरूपित करता है, और वर्ग 'फारसी शब्दों' को निरूपित करता है।

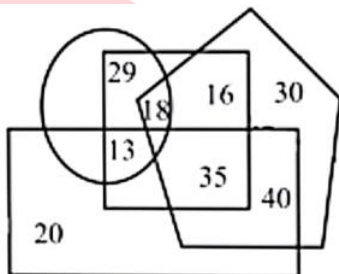
कौन सी संख्या अंग्रेजी और फारसी के उन शब्दों को निरूपित करती है जो हिंदी शब्दों में शामिल हैं?

(a) 16

(b) 29

(c) 13

(d) 35



40. Study the given Venn diagram and answer the question related to it.

Which segment represents illiterate villagers who are farmers?

दिए गए वेन आरेख का अध्ययन करें और उससे संबंधित प्रश्न का उत्तर दें।

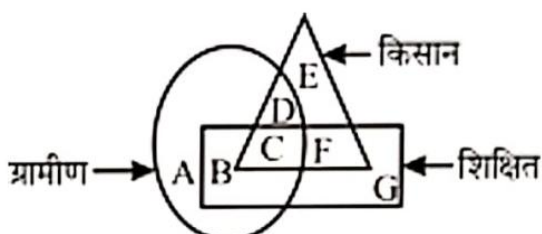
कौन - सा खंड उन अशिक्षित ग्रामीणों को दर्शाता है जो किसान हैं?

(a) E

(b) C

(c) D

(d) F



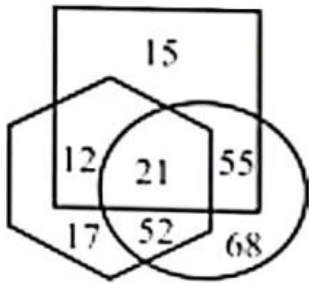
41. In the given Venn diagram, the hexagon represents 'farmers', the circle represents 'beneficiaries' and the square represents landowners. The numbers given in the diagram represent the number of people in that particular category.

How many are farmers, landowners as well as beneficiaries?

दिए गए वेन आरेख में, षट्कोण 'किसानों' को दर्शाता है, वृत्त 'लाभार्थियों' को दर्शाता है और वर्ग भू-स्वामियों को दर्शाता है। आरेख में दी गई संख्याएँ उस श्रेणी विशेष के व्यक्तियों की संख्या को दर्शाती हैं।

कितने किसान, भूस्वामी और लाभार्थी दोनों ही हैं?

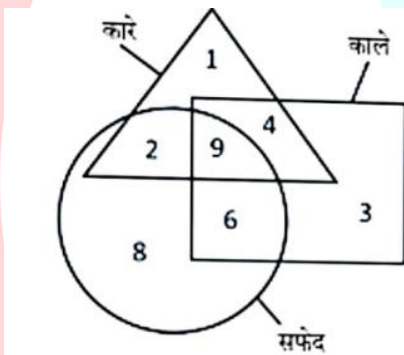
- (a) 55
(b) 21
(c) 12
(d) 52



42. How many blacks are only white?

कितने काले केवल सफेद हैं?

- (a) 3
(b) 9
(c) 6
(d) 15



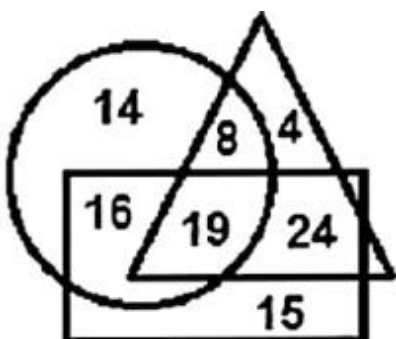
43. In the following diagram, the circle represents 'teachers', the rectangle represents 'part-time workers' and the triangle represents 'online teachers'. The numbers given in different sections represent the number of persons in that category.

How many teachers are online teachers as well as part-time workers?

निम्नांकित आरेख में, वृत्त 'अध्यापकों' को निरूपित करता है, आयत 'अंशकालिक कार्यकर्ताओं' को निरूपित करता है और त्रिभुज 'ऑनलाइन शिक्षकों' को निरूपित करता है। भिन्न-भिन्न खंडों में दी गई संख्याएँ, उस संवर्ग के व्यक्तियों की संख्या दर्शाती हैं।

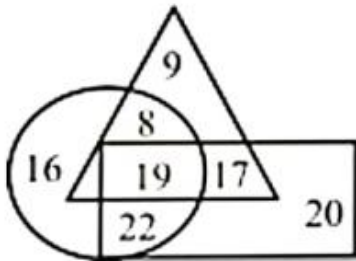
कितने अध्यापक ऑनलाइन शिक्षक के साथ-साथ अंशकालिक कार्यकर्ता भी हैं?

- (a) 16
(b) 24
(c) 19
(d) 15



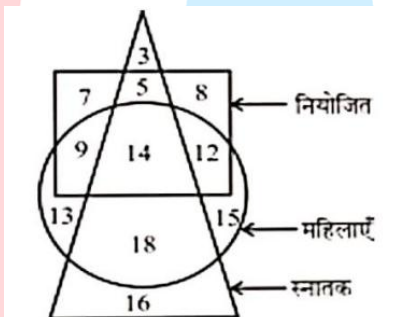
44. In the Venn diagram given below, the circle represents 'traders', the triangle represents 'homeowners' and the rectangle represents 'income tax payers'. The numbers given in the diagram represent the number of persons in that particular category. How many traders are taxpayers but not homeowners?
- नीचे दिए गए वेन आरेख में, वृत्त 'व्यापारियों' का प्रतिनिधित्व करता है, त्रिभुज 'मकान मालिकों' का प्रतिनिधित्व करता है और आयत 'आयकर दाताओं' का प्रतिनिधित्व करता है। आरेख में दी गई संख्याएँ उस श्रेणी - विशिष्ट में व्यक्तियों की संख्या का प्रतिनिधित्व करती है। कितने व्यापारी करदाता तो है लेकिन मकान मालिक नहीं है?

- (a) 19
(b) 17
(c) 22
(d) 8



45. In the given diagram, the shapes represent categories of persons. The numbers given in different sections represent the number of persons in that category. How many women are either graduates or employed but not both.
- दिए गए आरेख में, आकृतियाँ, व्यक्तियों की श्रेणियों को दर्शाती है। विभिन्न खंडों में दी गई संख्याएँ उस श्रेणी के व्यक्तियों की संख्या को दर्शाती है। कितनी महिलाएँ या तो स्नातक हैं या नियोजित हैं, लेकिन दोनों नहीं हैं।

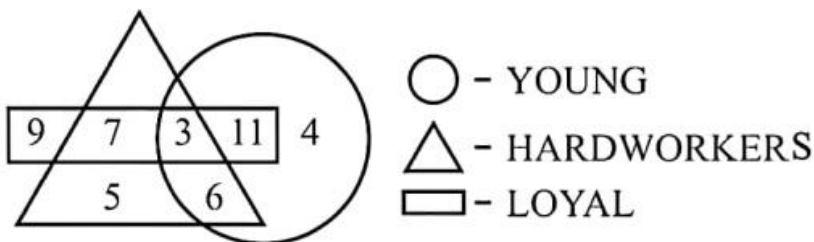
- (a) 35
(b) 39
(c) 41
(d) 40



46. Which of the following numbers in the Venn diagram represents young and hardworking workers but not loyal?

वेन आरेख में निम्नलिखित में से कौन सी संख्या युवा और मेहनती श्रमिकों को दर्शाती है लेकिन वफादार को नहीं?

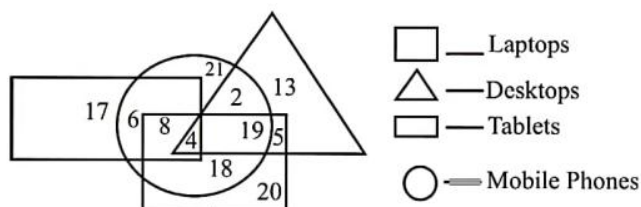
- (a) 11
(b) 6
(c) 7
(d) 3



47. Which of the following numbers in the Venn diagram represents only desktops and laptops?

वेन आरेख में निम्नलिखित में से कौन सी संख्या केवल डेस्कटॉप और लैपटॉप को निरूपित करती है ?

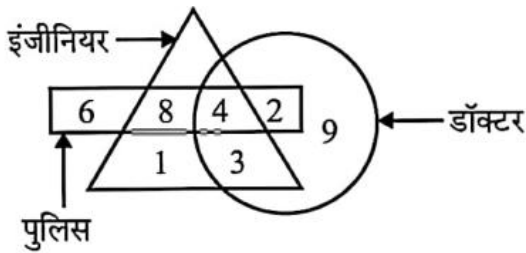
- (a) 2
(b) 5
(c) 19
(d) 4



48. Which of the following numbers in the Venn diagram represents doctors, engineers and police?

वेन आरेख में निम्नलिखित में से कौन सी संख्या डॉक्टर, इंजीनियर और पुलिस को दर्शाती है ?

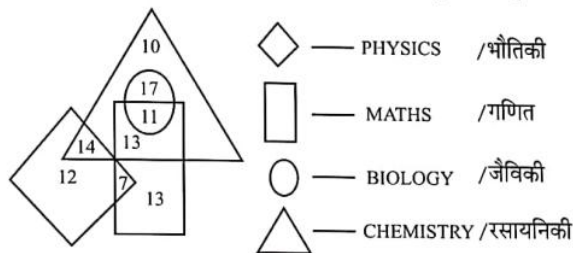
- (a) 5
(b) 4
(c) 2
(d) 9



49. Which of the following numbers in the Venn diagram represents only 'Biology, Chemistry and Mathematics'?

वेन आरेख में निम्नलिखित में से कौनसी संख्या केवल 'जैविकी, रासायनिकी और गणित' को दर्शाती है?

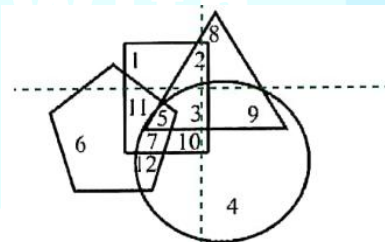
- (a) 13
(b) 17
(c) 11
(d) 14



50. In the following diagram, triangle represents the number of people who are sportsmen, circle represents the number of people who have typewriting skill, square represents the number of people who are graduates, pentagon represents the number of people who speak Hindi. What is the number of people who are graduates and sportsmen?

निम्नांकित रेखा-चित्र में, त्रिकोण उन लोगों की संख्या को दर्शाता है जो खिलाड़ी हैं, वृत्त उन लोगों की संख्या को दर्शाता है जिनमें टाइपराइटिंग कौशल है, वर्ग उन लोगों की संख्या को दर्शाता है जो स्नातक हैं, पंचभुज हिंदी भाषियों की संख्या दर्शाता है। उन लोगों की संख्या क्या है जो स्नातक और खिलाड़ी हैं?

- (a) 5
(b) 15
(c) 10
(d) 21



1.	2.	3.	4.	5.	6.	7.	8.	9.	10.
B	C	A	A	B	D	A	C	A	B
11.	12.	13.	14.	15.	16.	17.	18.	19.	20.
A	D	C	D	B	C	A	C	B	D
21.	22.	23.	24.	25.	26.	27.	28.	29.	30.
D	A	A	D	A	D	B	A	A	A
31.	32.	33.	34.	35.	36.	37.	38.	39.	40.
D	C	B	B	B	D	B	C	C	C
41.	42.	43.	44.	45.	46.	47.	48.	49.	50.
B	C	C	C	B	B	B	B	C	C