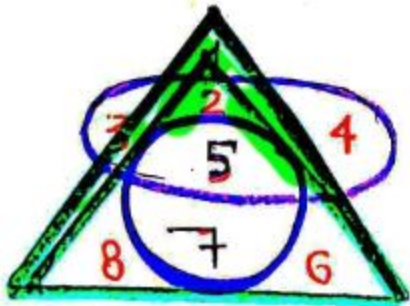


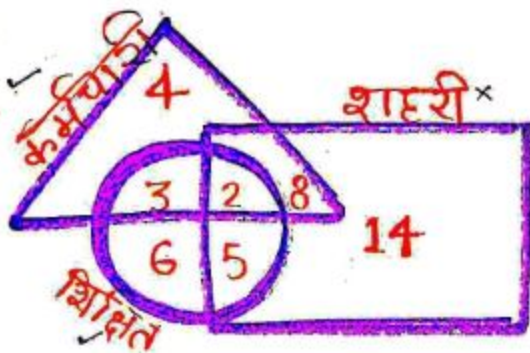
venn diagram

1. > नीचे दिये गये आरेख में कौन सी संख्या सभी ज्यामितीय आकृतियों में सामान्य है।



ans-5

2. > कितने शिक्षित कर्मचारी हैं। जो शहरी नहीं हैं?



(ans-3)

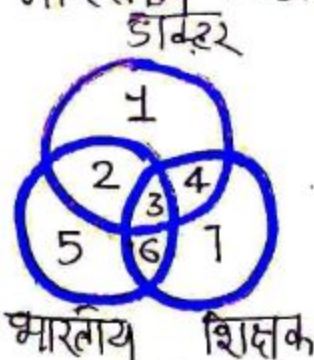
Ans-3

3. > निम्नलिखित आरेख में तीन वृत्त हैं।

आरेख का ध्यानपूर्वक अध्ययन करें और निचे दिये गये प्रश्नों के उत्तर दें।

उन शिक्षकों को पता लगायें जो डाक्टर हैं।

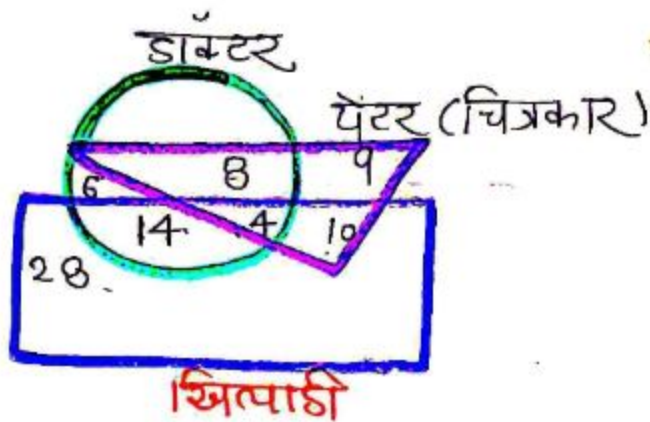
और भारतीय नहीं।



(ans-4)

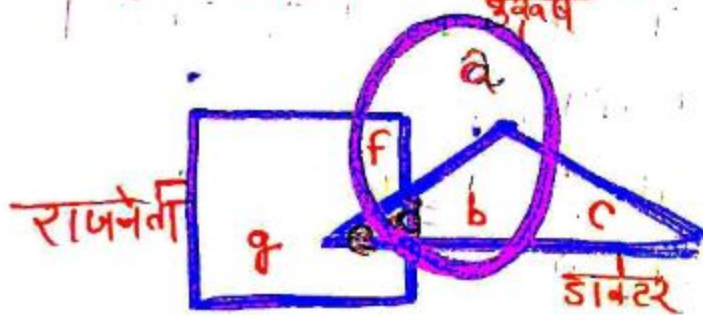
4. निम्नलिखित आरेख का अध्ययन करें
जो दिये गये प्रश्नों का उत्तर दे।

कितने चित्रकार न तो डाक्टर हैं। और न ही
खिलाड़ी ?



(ans-9)

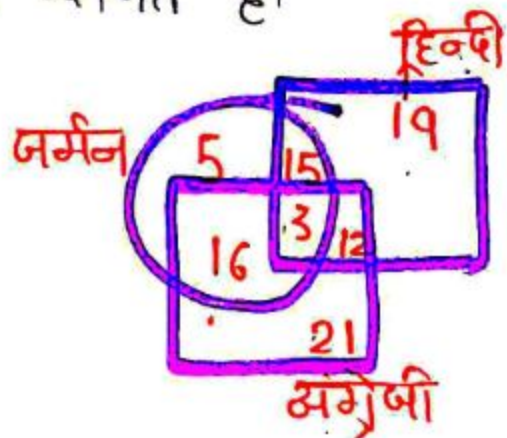
5. कौन सा अक्षर एक पुरुष राजनेता का
प्रतिनिधित्व करता है।



(ans-F)

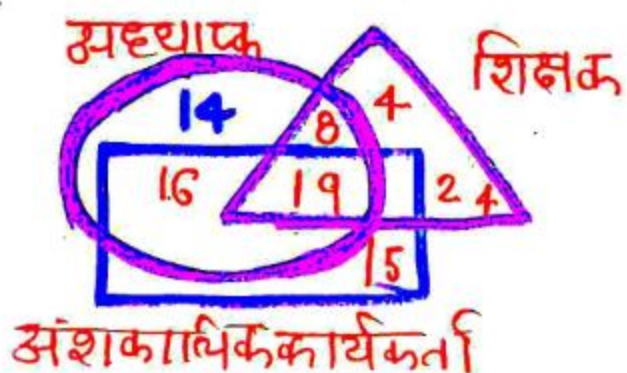
6> दिया गया वेन उन विद्यार्थियों की संख्या दर्शाता है। जो विभिन्न भाषाएँ जानते हैं।
हिन्दी अंग्रेजी और जर्मन

उन विद्यार्थियों की संख्या कितनी है जो अंग्रेजी और जर्मन दोनों जानते हैं। लेकिन हिन्दी नहीं जानते हैं।



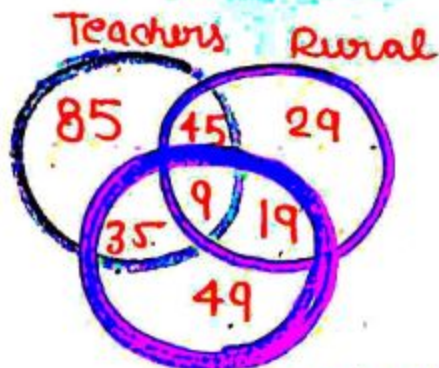
उत्तर - 16

7> निम्नांकित आरेख में वृत्त अध्यापकों को निरूपित करता है आयत अंशकालिक कार्यकर्ताओं को निरूपित करता है। और त्रिभुज व्यावसायिक शिक्षकों को निरूपित करता है।
भिन्न-भिन्न खंडों में दी गयी संख्याएँ उस संवर्ग के व्यक्तियों की संख्या दर्शाती हैं।



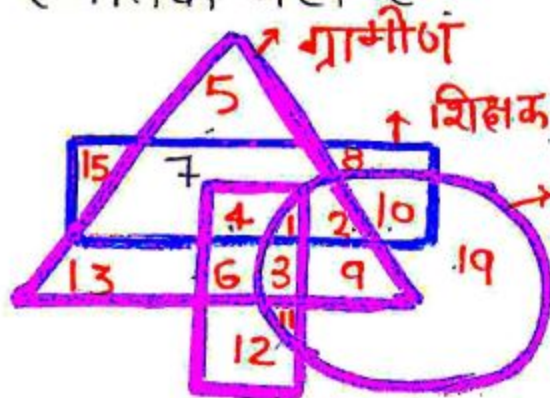
उत्तर - 19

8) उन शिक्षकों की संख्या कितनी है। जो न तो ग्रामीण हैं। ना ही स्नातकोत्तर हैं ?



उत्तर - 85

9) उन ग्रामीण सरकारी शिक्षकों की संख्या क्या है। जो स्नातक नहीं हैं ?



उत्तर - 2

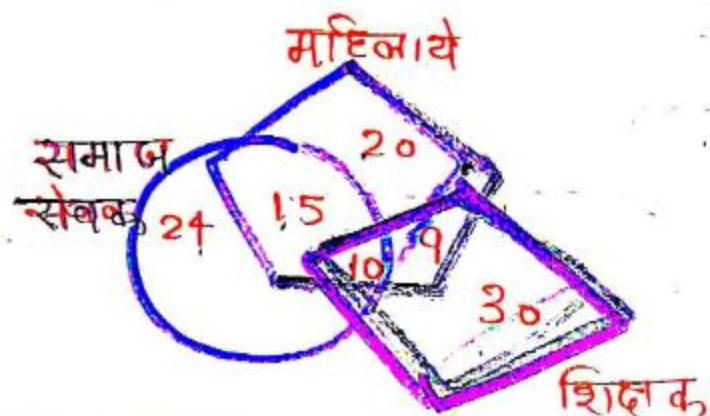
10) आरेख में वृत्त सैनिकों को निरूपित करता है। वर्ग भारतीय को निरूपित करता है। और जिम्बुवा गायकों को निरूपित करता है।
वेभिन्न खंडों में दी गयी संख्याएँ उस श्रेणी से संबंधित व्यक्तियों की संख्या को दर्शाती हैं।



Ans भारतीय गायक जो सैनिक नहीं हैं।

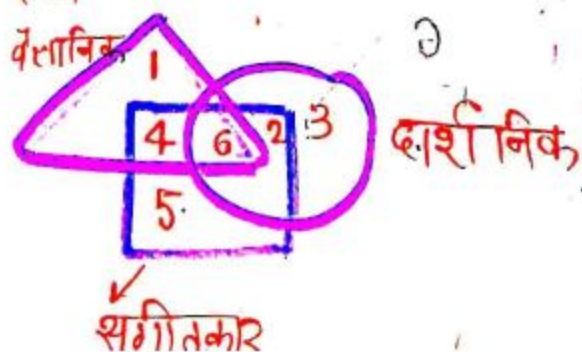
1. निम्नलिखित आरेख में समचतुर्भुज, शिष्ट को को निरूपित करता है। वृत्त समाज सेवकों को निरूपित करता है। और पंचभुज महिलाओं को निरूपित करता है। विभिन्न व्यंजनों में दी गई संख्याएँ उस श्रेणी से संबंधित व्यक्तियों की संख्या को दर्शाती हैं।

कितनी महिला शिक्षक समाज सेवक भी हैं ?



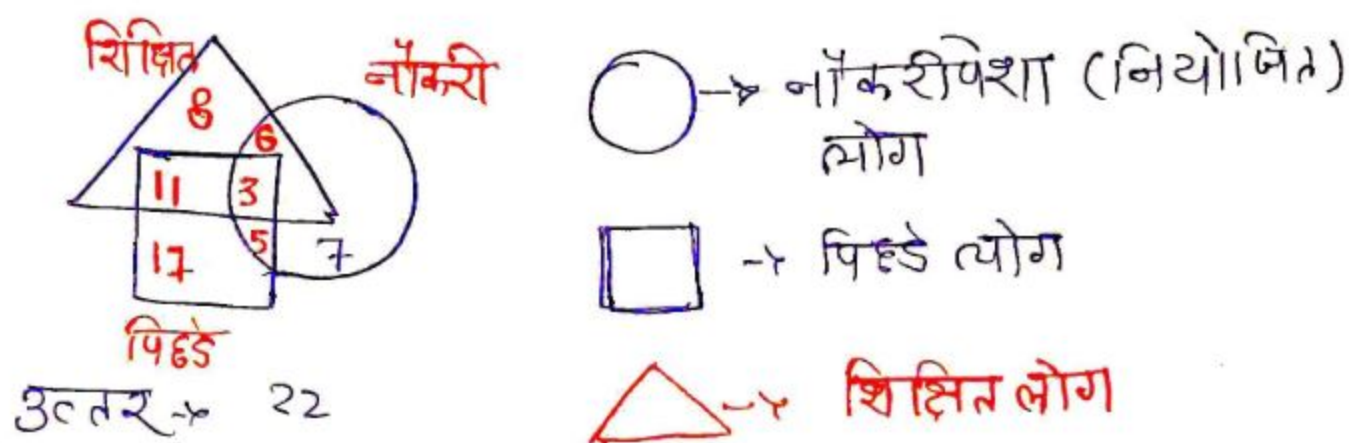
उत्तर-10

12. दी गयी आकृति में वृत्त दार्शनिकों को निरूपित करता है। त्रिभुज वैज्ञानिकों को निरूपित करता है। और वर्ग संगीतकारों को निरूपित करता है। कौन सा क्षेत्र उन व्यक्तियों को निरूपित करता है जो दार्शनिक और संगीतकार हैं। लेकिन वैज्ञानिक नहीं है।

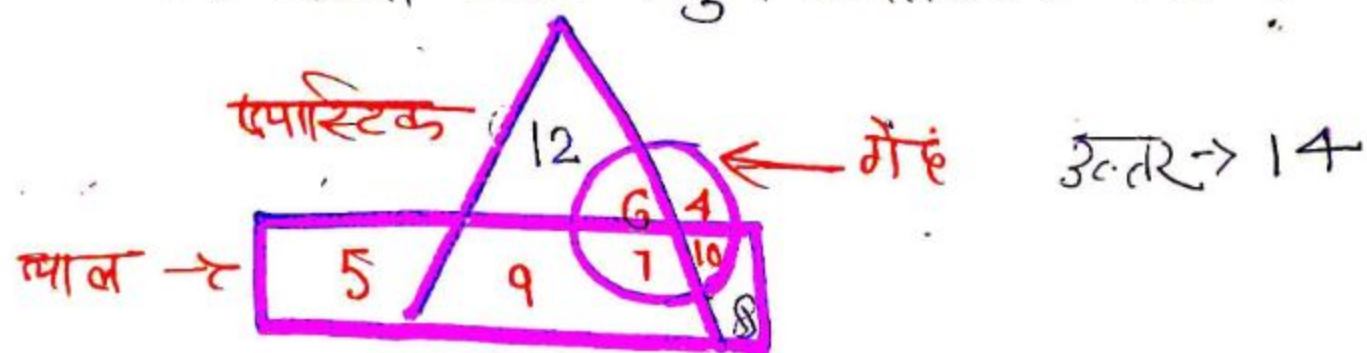


उत्तर-2

15) पिछे जाने वाले कितने व्यक्ति शिक्षित नहीं हैं


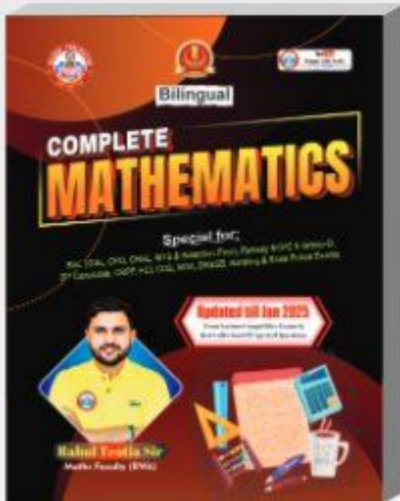


16) आकृति का विश्लेषण करके ज्ञात कीजिये कि कितनी ज्ञान वस्तुएं टप्यारस्टिक नहीं हैं







General Titles



BUY NOW



Follow us on



Rojgar with Ankit

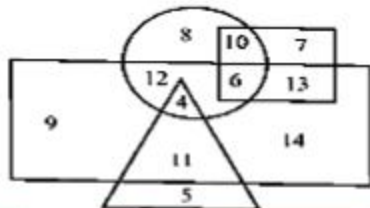
1. In the following diagram, Rectangle represents men, Triangle represents educated, Circle represents urban and Square represents government employees:

निम्नलिखित आरेख में आयत पुरुषों को दर्शाता है, त्रिभुज शिक्षित को दर्शाता है, वृत्त शहरी को दर्शाता है और वर्ग सरकारी कर्मचारियों को दर्शाता है:

Which of the following diagram represents a man who is urban as well as government employee?

निम्नलिखित में से कौन सा एक ऐसे पुरुष का प्रतिनिधित्व करता है जो शहरी होने के साथ-साथ सरकारी कर्मचारी भी है ?

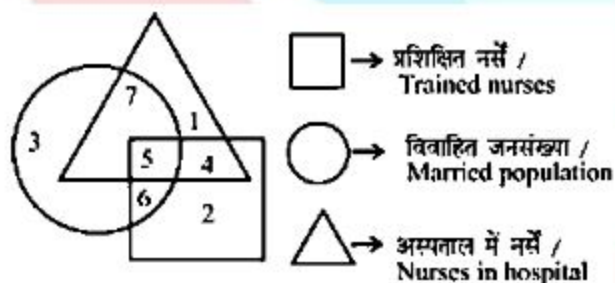
- (a) 6
(b) 7
(c) 10
(d) 13



2. Study the following figure and answer the question given below.

निम्नलिखित आकृति का अध्ययन करें और नीचे दिए गए प्रश्न का उत्तर दें।

What is represented by the number 7?
संख्या 7 से क्या दर्शाया जाता है ?

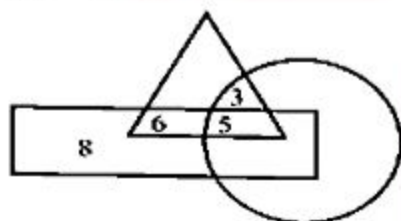


- (a) Married trained nurses / विवाहित प्रशिक्षित नर्स
(b) Unmarried trained nurses / अविवाहित प्रशिक्षित नर्स
(c) Married nurses in the hospital / अस्पताल में विवाहित नर्स
(d) Trained nurses / प्रशिक्षित नर्स

3. In the given figure if Triangle represents healthy people, Rectangle represents old persons and Circle represents men, then what is the number of those men who are healthy but not old ?

दिए गए चित्र में यदि त्रिभुज स्वस्थ लोगों को दर्शाता है, आयत वृद्ध व्यक्तियों को दर्शाता है और वृत्त पुरुषों को दर्शाता है, तो उन पुरुषों की संख्या क्या है जो स्वस्थ हैं लेकिन वृद्ध नहीं हैं ?

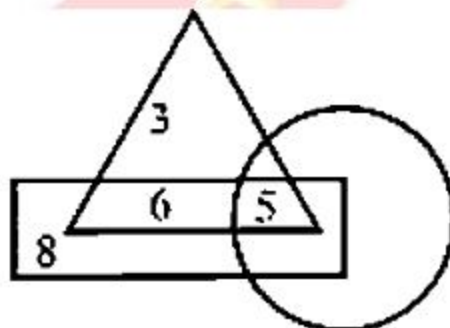
- (a) 8
(b) 5
(c) 6
(d) 3



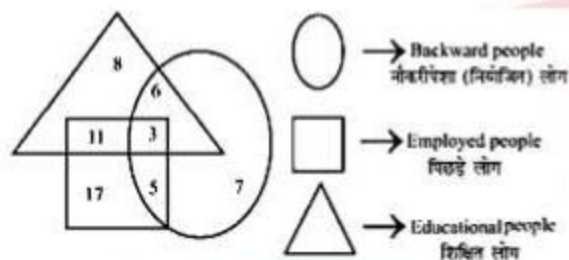
4. In the given figure, if Triangle represents doctor, Square represents Lawyer and Circle represents Literate, then what is the number of those Doctors and Lawyers who are Literate?

दिए गए चित्र में, यदि त्रिभुज डॉक्टर को दर्शाता है, वर्ग वकील को दर्शाता है और वृत्त साक्षर को दर्शाता है, तो उन डॉक्टरों और वकीलों की संख्या क्या है जो साक्षर हैं ?

- (a) 6
(b) 3
(c) 8
(d) 5



5. Examine the provided diagram and respond to the following question. / दिए गए आरेख का परीक्षण कीजिए और निम्नलिखित प्रश्न का उत्तर दीजिए।

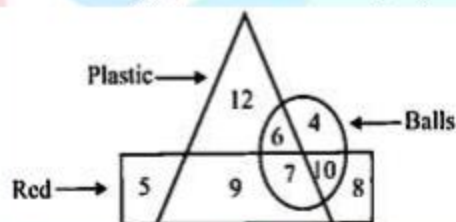


How many individuals considered backward are not educated? / पिछड़े माने जाने वाले कितने व्यक्ति शिक्षित नहीं हैं?

- (a) 31 (b) 22
(c) 20 (d) 16

6. Analysing the figure, find how many red objects are not plastic आकृति का विश्लेषण करके, ज्ञात कीजिए कि कितनी लाल वस्तुएँ प्लास्टिक नहीं हैं।

- (a) 25
(b) 22
(c) 23
(d) 24

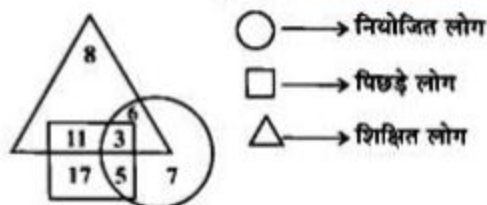


7. Examine the given diagram and find the following

How many educated people are considered backward?

दिए गए आरेख का परीक्षण कीजिए और निम्नलिखित कितने शिक्षित व्यक्ति पिछड़े माने जाते हैं?

- (a) 8
(b) 14
(c) 13
(d) 17



8. Examine the given diagram and answer the following question. दिए गए आरेख का परीक्षण कीजिए और निम्नलिखित प्रश्न का उत्तर दीजिए।



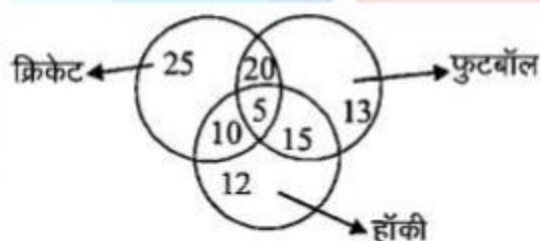
How many people drink only coffee?

कितने व्यक्ति केवल कॉफी पीते हैं?

- (a) 55
(b) 70
(c) 45
(d) 75

9. In this diagram there are 100 players playing different sports. इस आरेख में 100 खिलाड़ी भिन्न-भिन्न खेल खेलते हैं।

How many players play both football and hockey but do not play cricket?



कितने खिलाड़ी फुटबॉल और हॉकी दोनों खेलते हैं, लेकिन क्रिकेट नहीं खेलते हैं?

- (a) 25
(b) 5
(c) 20
(d) 15

10. Look at the following graph and find how many students like neither Mathematics nor English?

निम्न रेखा - चित्र को देखें और ज्ञात करें, कितने विद्यार्थी न तो गणित न ही अंग्रेजी को पसंद करते हैं ?

- (a) 27
(b) 23
(c) 26
(d) 21



1.	2.	3.	4.	5.	6.	7.	8.	9.	10.
----	----	----	----	----	----	----	----	----	-----

A	C	D	D	B	C	B	C	D	D
---	---	---	---	---	---	---	---	---	---