



# DELHI POLICE 2025

**CONSTABLE HCM AWO/TPO DRIVER**



## यकीन बैच

### REASONING

### Venn Diagram

**Part -2**

**LIVE**  
STREAMING

**28-03-2025 08:00 AM**





1. Select the Venn diagram that best represents the relationship among the following classes.

Mothers, managers, men

उस वेन आरेख का चयन कीजिए जो निम्नांकित वर्गों के मध्य संबंध का सर्वश्रेष्ठ निरूपण करता है।

माताएँ, प्रबंधक, पुरुष



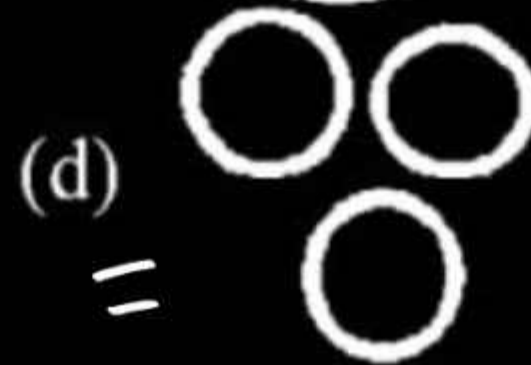
Delhi Police Constable 27/11/2020 Shift-III

2. Select the Venn diagram that best represents the relationship between the following classes.

Thumb, Fingers, Stomach

उस वेन आरेख का चयन कीजिए जो निम्नलिखित वर्गों के बीच संबंध का सर्वश्रेष्ठ निरूपण करता है।

अंगूठे, उंगलियाँ, आमाशय



Delhi Police Constable 14/12/2020 Shift-III

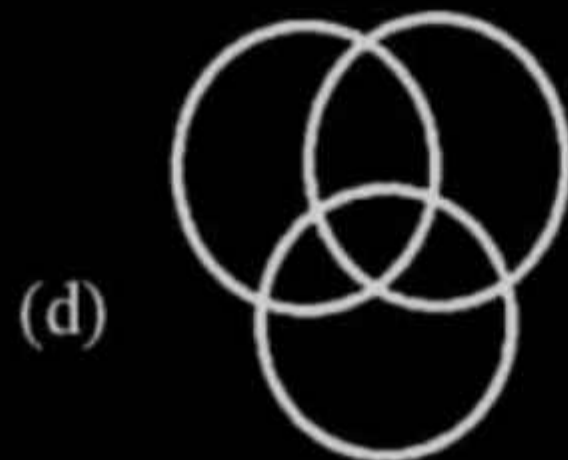
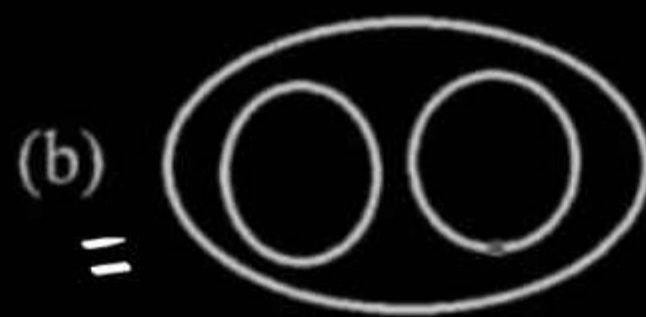
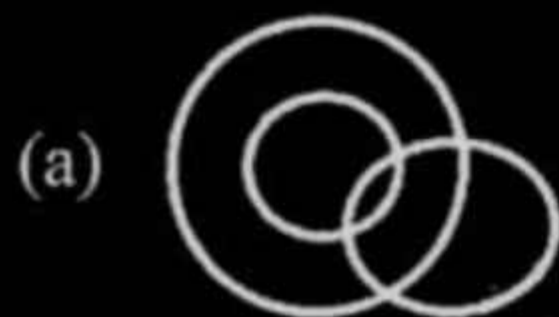


3. Which of the following Venn diagrams best represents the given classes?

Furniture, Chair, Table

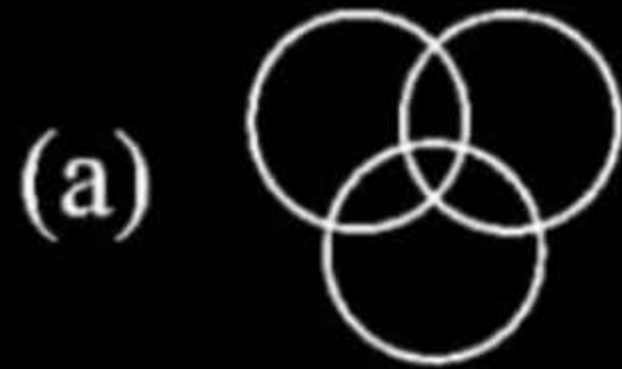
निम्नांकित में से कौन सा वेन आरेख दिए गए वर्गों का सर्वश्रेष्ठ निरूपण करता है?

फर्नीचर, कुर्सी, मेज



4. Which of the following diagram correctly indicates the relationship between furniture, chairs and tables?

फर्नीचर, चेयर्स तथा टेबल्स के मध्य निम्न में से कौन सा चित्र सही संबंध निर्देशन करता है?



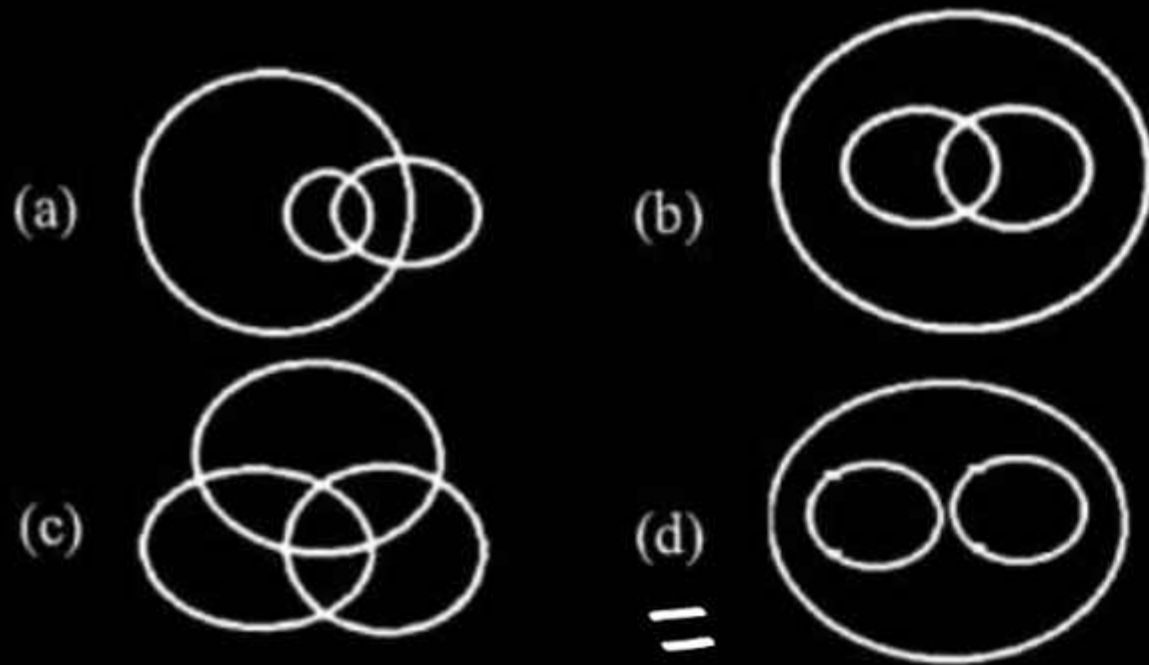


5. Choose the Venn diagram from the given options that best depicts the relationship among the following classes.

Earth, Solar System, Venus

दिए गए विकल्पों में से उस वेन आरेख का चयन कीजिए जो निम्नांकित वर्गों के मध्य संबंध का सर्वश्रेष्ठ चित्रण करता है।

पृथ्वी, सौर प्रणाली, शुक्र



Delhi Police Constable 10/12/2020 Shift-II

6. Choose the Venn diagram that best illustrates the relationship among the following classes.

Deer, Herbivores, Leopard

उस वेन आरेख का चयन कीजिए जो निम्नांकित वर्गों के मध्य संबंध का सर्वश्रेष्ठ चित्रण करता है।  
हिरन, शाकभक्षी, चीता







7. Select the Venn diagram that best represents the relationship among the following classes.

Single, Male, Lawyer

उस वेन आरेख का चयन कीजिए जो निम्नांकित वर्गों के मध्य संबंध का सर्वश्रेष्ठ निरूपण करता है।

अविवाहित, पुरुष, वकील



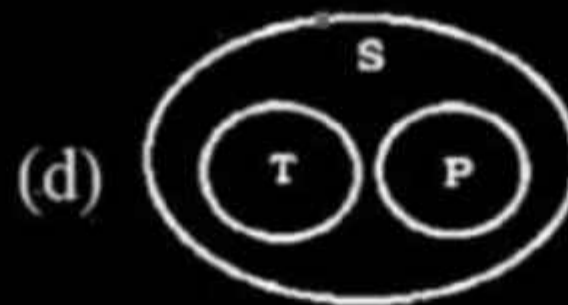
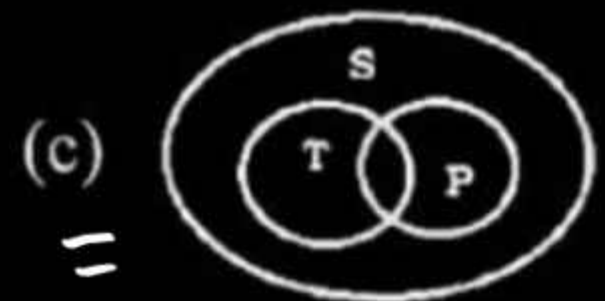


8. Choose the Venn diagram that best illustrates the relationship between the following classes.

School (S), Teachers (T), Principal (P)

वह वेन आरेख चुने, जो निम्न वर्गों के बीच संबंध को सर्वोत्तम ढंग से चित्रित करता है।

स्कूल (S), शिक्षक (T), प्रधानाध्यापक (P)



9. Select the Venn diagram that best illustrates the relationship among the following classes.

Paper, Crafts, Art

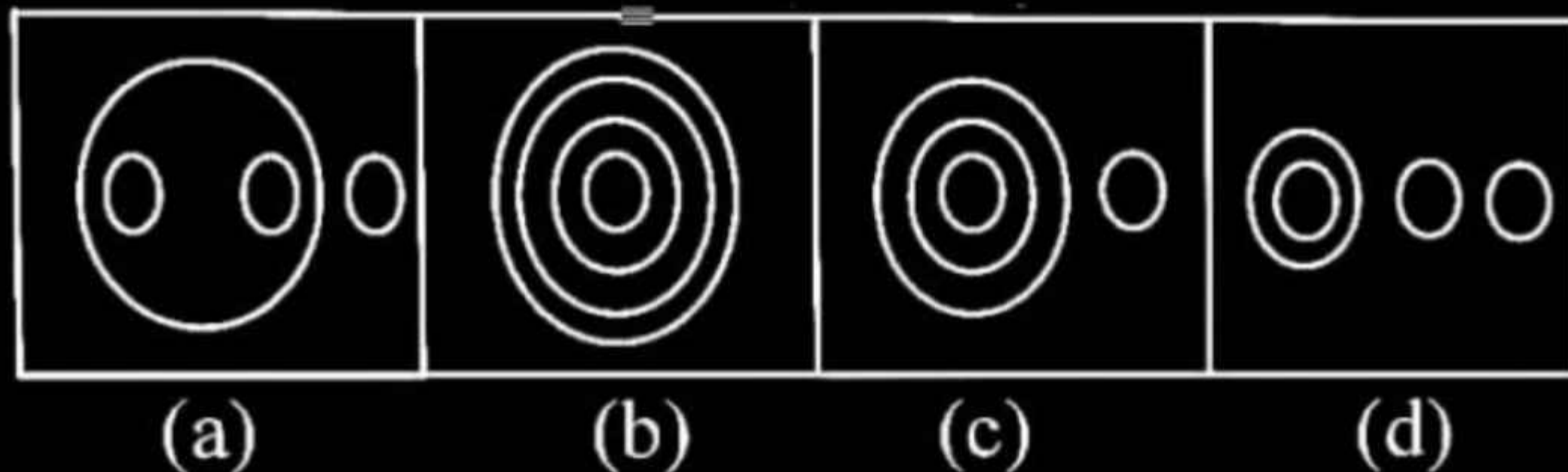
उस वेन आरेख का चयन कीजिए जो निम्नांकित वर्गों के मध्य संबंध का सर्वश्रेष्ठ चित्रण करता है।  
**कागज, शिल्प, कला**





**10. Which answer figure best represents the relationship between milk, goat, cow and hen?**

**कौन-सी उत्तर आकृति दूध, बकरी, गाय और मुर्गी के बीच सबसे सही संबंध दर्शाती है?**



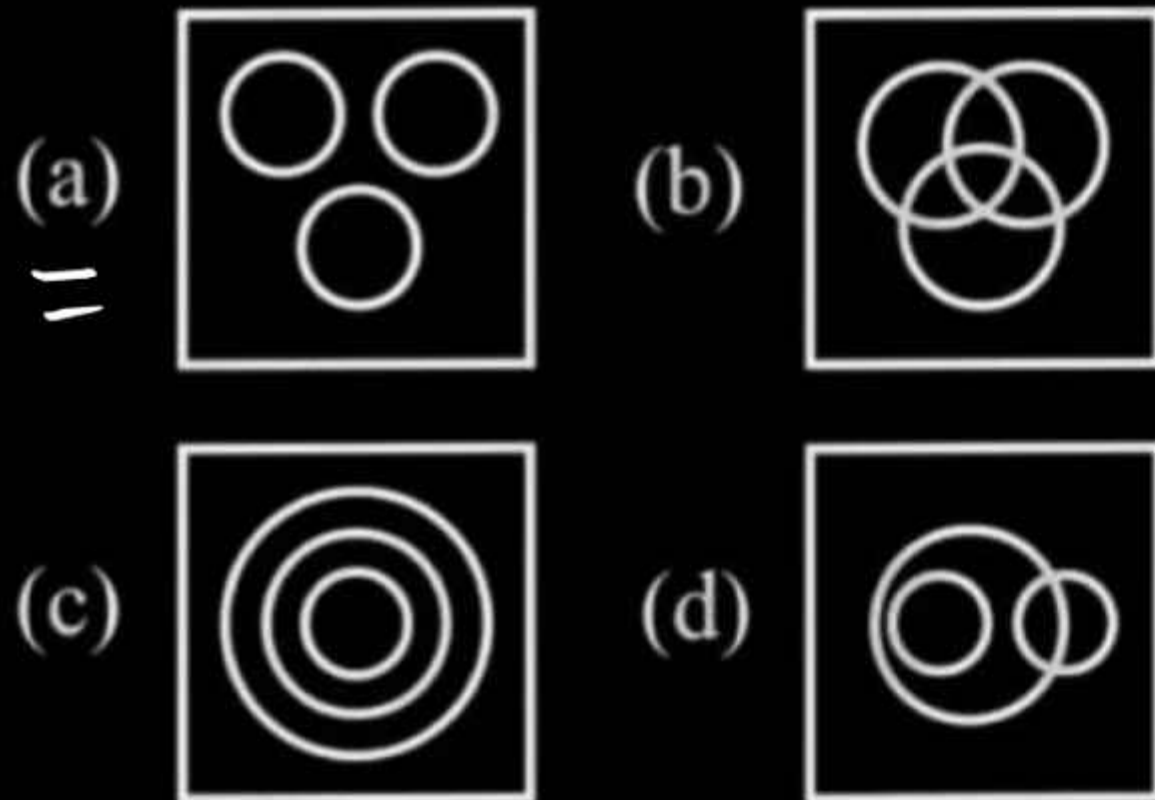
11

**11. Choose the diagram that best represents the relationship between the classes given below.**

**Pen, Pencil, Bottle**

वह आरेख चुनिए जो नीचे दिए गए वर्गों के बीच के संबंध का सही निरूपण करता है।

कलम, पेंसिल, बोतल



**Delhi Police Constable 06/12/2017 Shift-III**

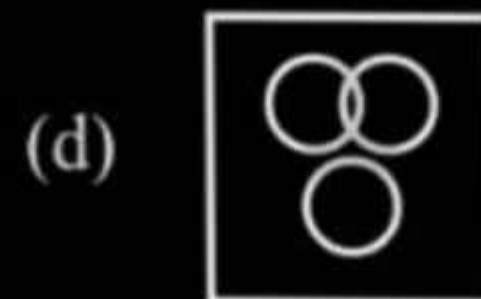
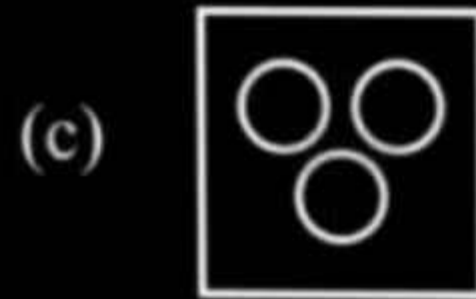
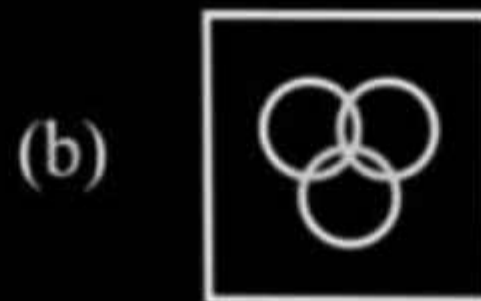


**12.** Choose the diagram that best represents the relationship between the classes given below.

**Cups, Plates, Utensils**

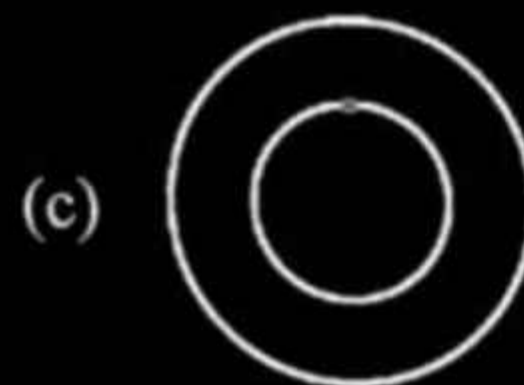
वह आरेख चुनिए जो नीचे दिए गए वर्गों के बीच के सम्बन्ध का सही निरूपण करता है।

**कप, प्लेट, बर्तन**



**13. Which of the following diagrams best represents the relationship between mammals, cows and bats?**

**निम्न में से कौन - सा डायग्राम, स्तनपायी, गाय तथा चमगादड़ के मध्य सबसे उत्तम सम्बन्ध दर्शाता है ?**





**14. Which of the following Venn diagrams best represents the given classes?**

**Female, Mother, Father**

**निम्नांकित में से कौन सा वेन आरेख दिए गए वर्गों का सर्वश्रेष्ठ निरूपण करता है?**


**महिला, माता, पिता**



**15.** Choose the Venn diagram that best represents the relationship among the following classes.

Telugu, Urdu, Poetry

उस वेन आरेख का चयन कीजिए जो निम्नांकित वर्गों के मध्य संबंध का सर्वश्रेष्ठ निरूपण करता है।  
**तेलगू, उर्दू, कविता**






**16. Which of the following Venn diagram best represents the classes given below?**

**Window, Door, House**

**निम्नलिखित में से कौन सा वेन आरेख नीचे दिए गए वर्गों में से सबसे अच्छा प्रतिनिधित्व करता है?**  
**खिड़की, दरवाजा, घर**

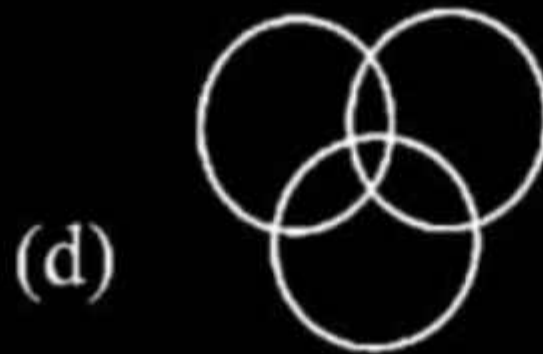

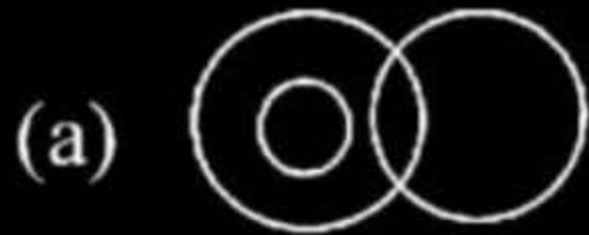




**17.** Choose the Venn diagram that best illustrates the relationship among the following classes.

**Trees, Leaves, Chlorophyll**

उस वेन आरेख का चयन कीजिए जो निम्नांकित वर्गों के मध्य संबंध का सर्वश्रेष्ठ चित्रण करता है।  
**वृक्ष, पत्तियाँ, पर्णहरित**





**18.** Select the Venn diagram that best represents the relationship between the following classes.

**Carnivores (C), Lion (L), Elephant (E)**

उस वेन आरेख का चयन कीजिए जो निम्नलिखित वर्गों के बीच संबंध का सर्वश्रेष्ठ निरूपण करता है।  
**मांसाहारी (C), शेर (L), हाथी (E)**



**19.** Choose the Venn diagram that best illustrates the relationship among the following classes.

Jupiter, Planets, Moon

उस वेन आरेख का चयन कीजिए जो निम्नांकित वर्गों के मध्य संबंध का सर्वश्रेष्ठ चित्रण करता है।  
**वृहस्पति, ग्रह, चन्द्रमा**

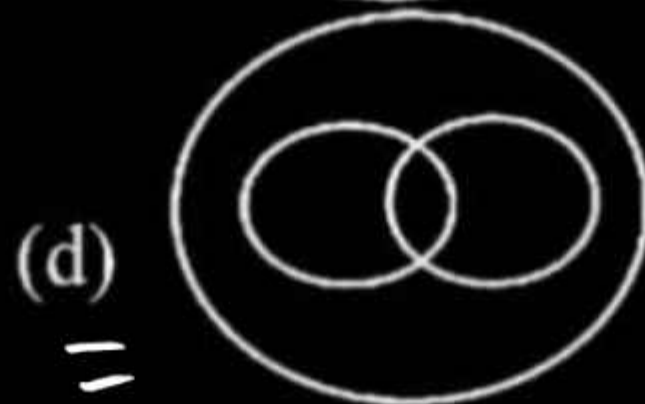
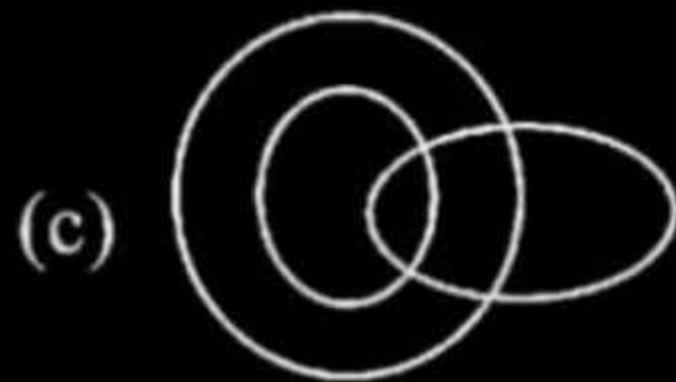





**20.** Choose the Venn diagram that best depicts the relationship between the following categories.

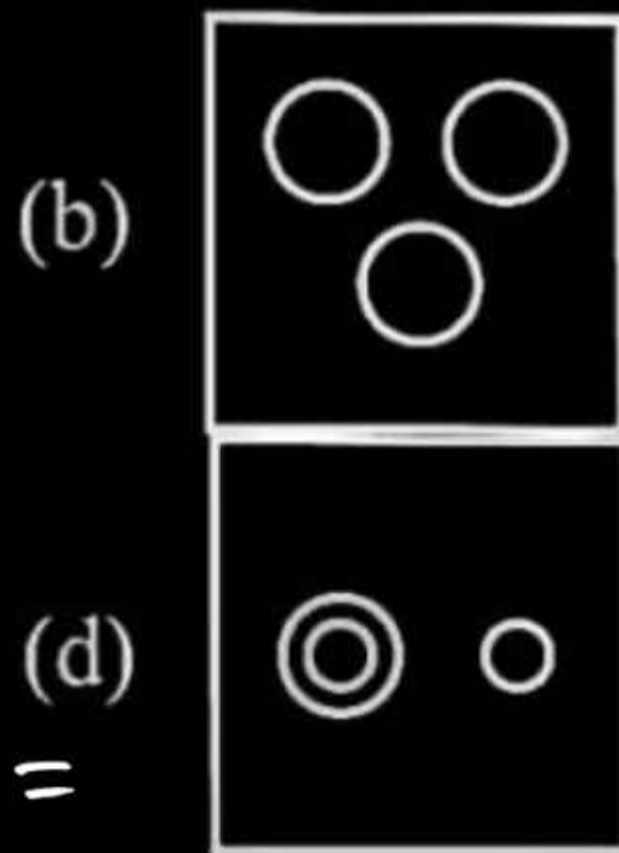
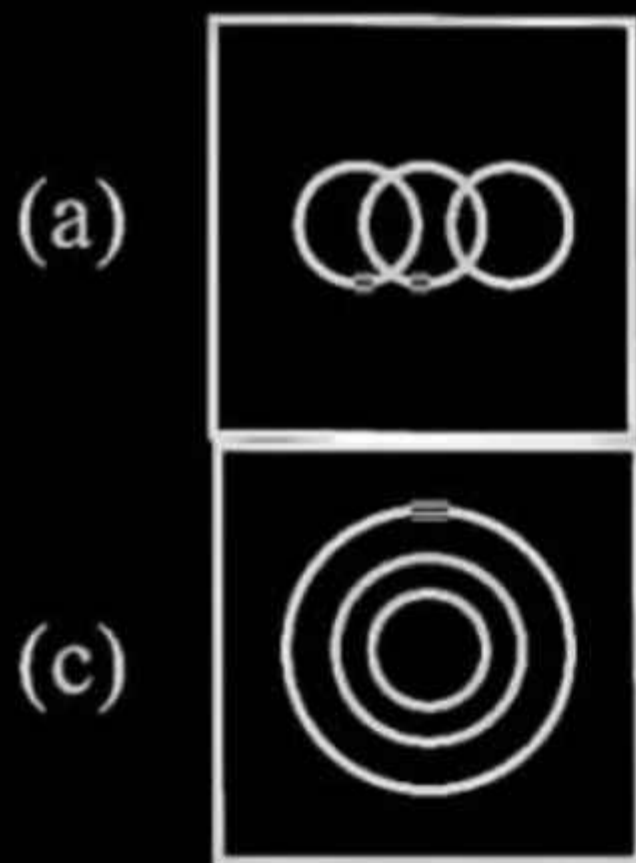
**Information, News, History**

उस वेन आरेख का चयन कीजिए जो निम्नांकित वर्गों के मध्य संबंध का सर्वश्रेष्ठ चित्रण करता है।  
**सूचना, समाचार, इतिहास**



**21. Which figure represents the relationship between rose, flowers and leaves?**

**कौन-सी आकृति गुलाब, फूल और पत्तियों के बीच सम्बन्ध को दर्शाती है?**





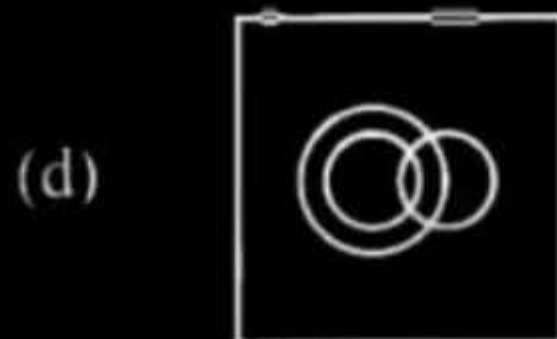
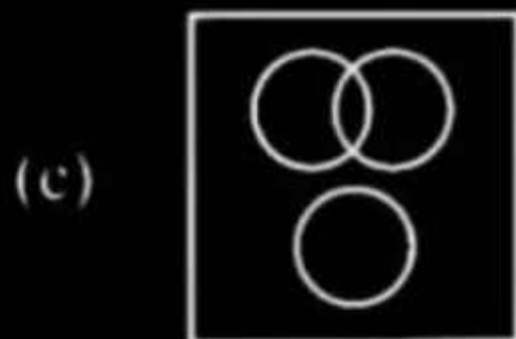

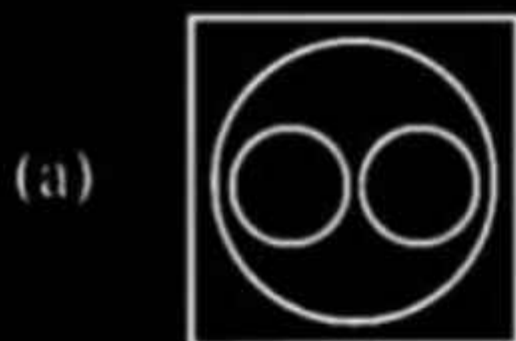


22. Choose the diagram that best represents the relationship between the classes given below.

Ladyfinger, Apple, Fruit

वह आरेख चुनिए जो नीचे दिए गए वर्गों के बीच के संबंध का सही निरूपण करता है।

भिंडी, सेब, फल

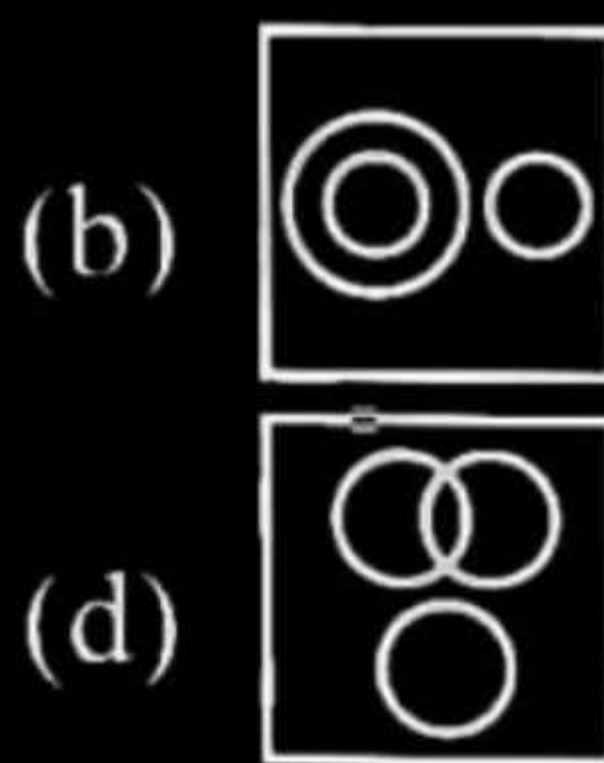
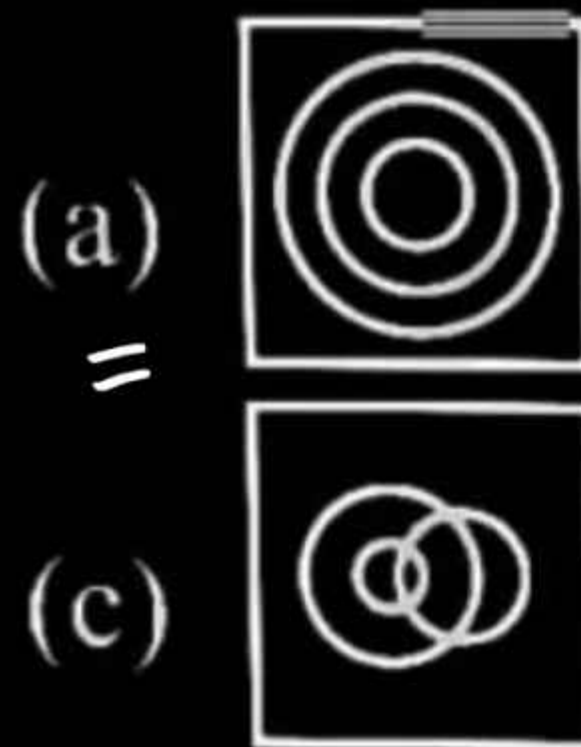


**23.** Choose the diagram that correctly represents the relationship between the classes given below.

Letters, Words, Sentences

वह आरेख चुनिए जो नीचे दिए गए वर्गों के बीच के संबंध का सही निरूपण करता है।

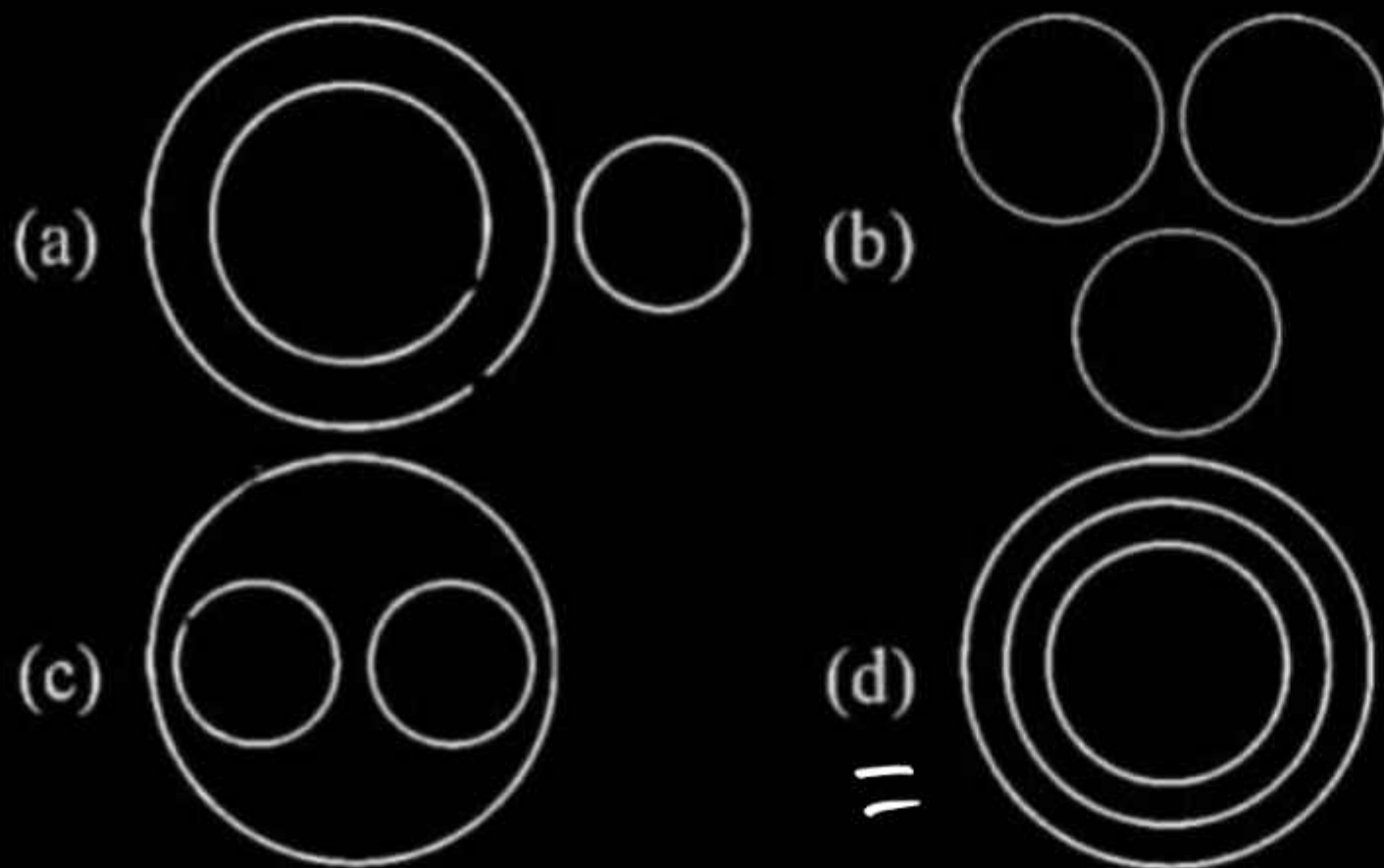
अक्षर, शब्द, वाक्य





**24. Which of these pictures best depicts the relationship between India, Rajasthan and Jaipur?**

**इनमें से कौन सा चित्र भारत, राजस्थान तथा जयपुर के बीच बेहतरीन तरीके से संबंध दर्शाया है?**

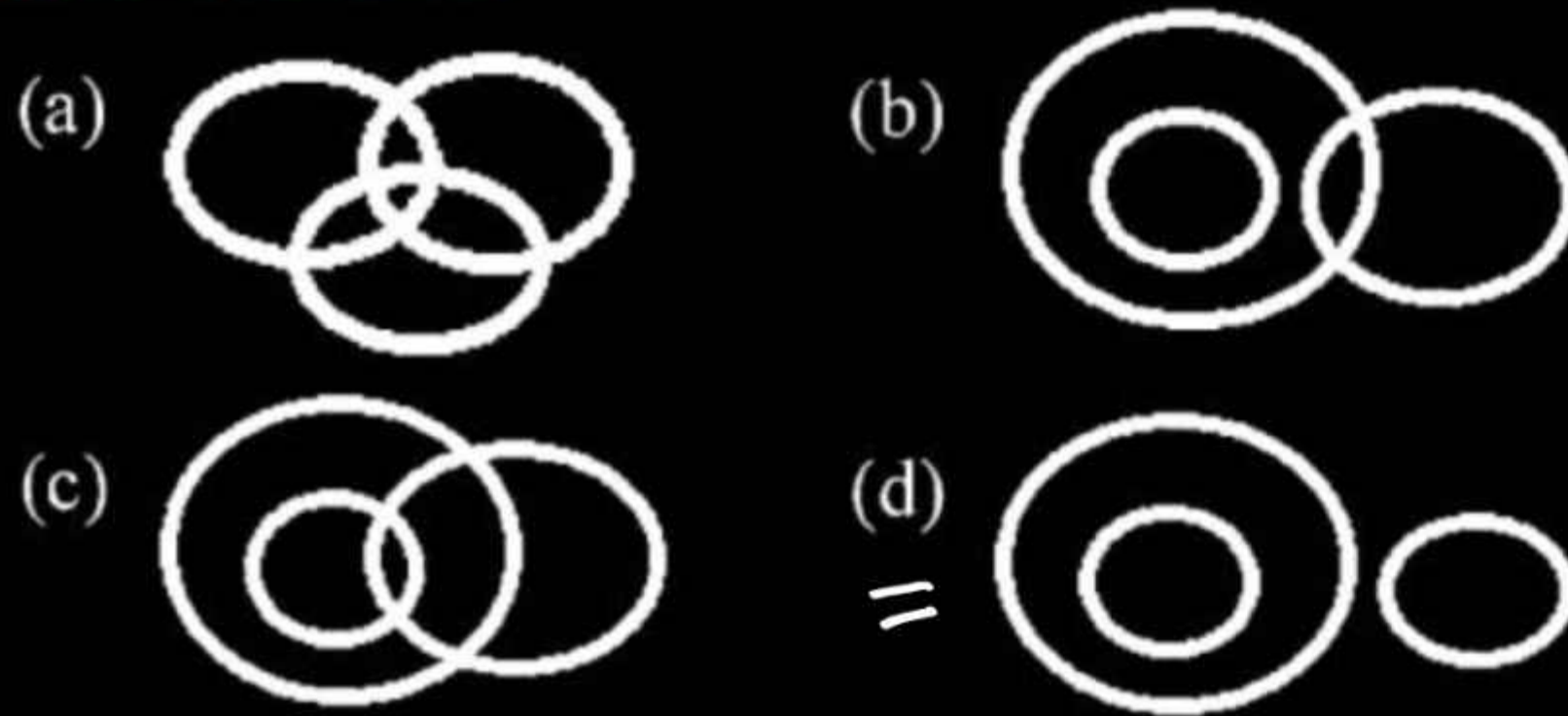


**25.** Select the Venn diagram that best represents the relationship among the following classes.

Venus, Planets, Moon

उस वेन आरेख का चयन कीजिए जो निम्नांकित वर्गों के मध्य संबंध का सर्वश्रेष्ठ निरूपण करता है।

शुक्र, ग्रह, चंद्रमा



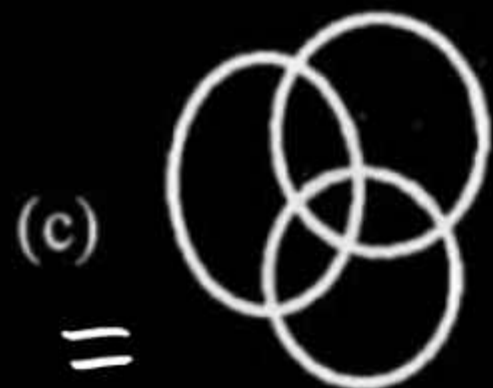


**26.** Select the Venn diagram that best represents the relationship between the following classes.

Boy, Student, Cricketer

उस वेन आरेख का चयन कीजिए जो निम्नांकित वर्गों के बीच संबंध का सर्वश्रेष्ठ निरूपण करता है।

लड़का, विद्यार्थी, क्रिकेटर

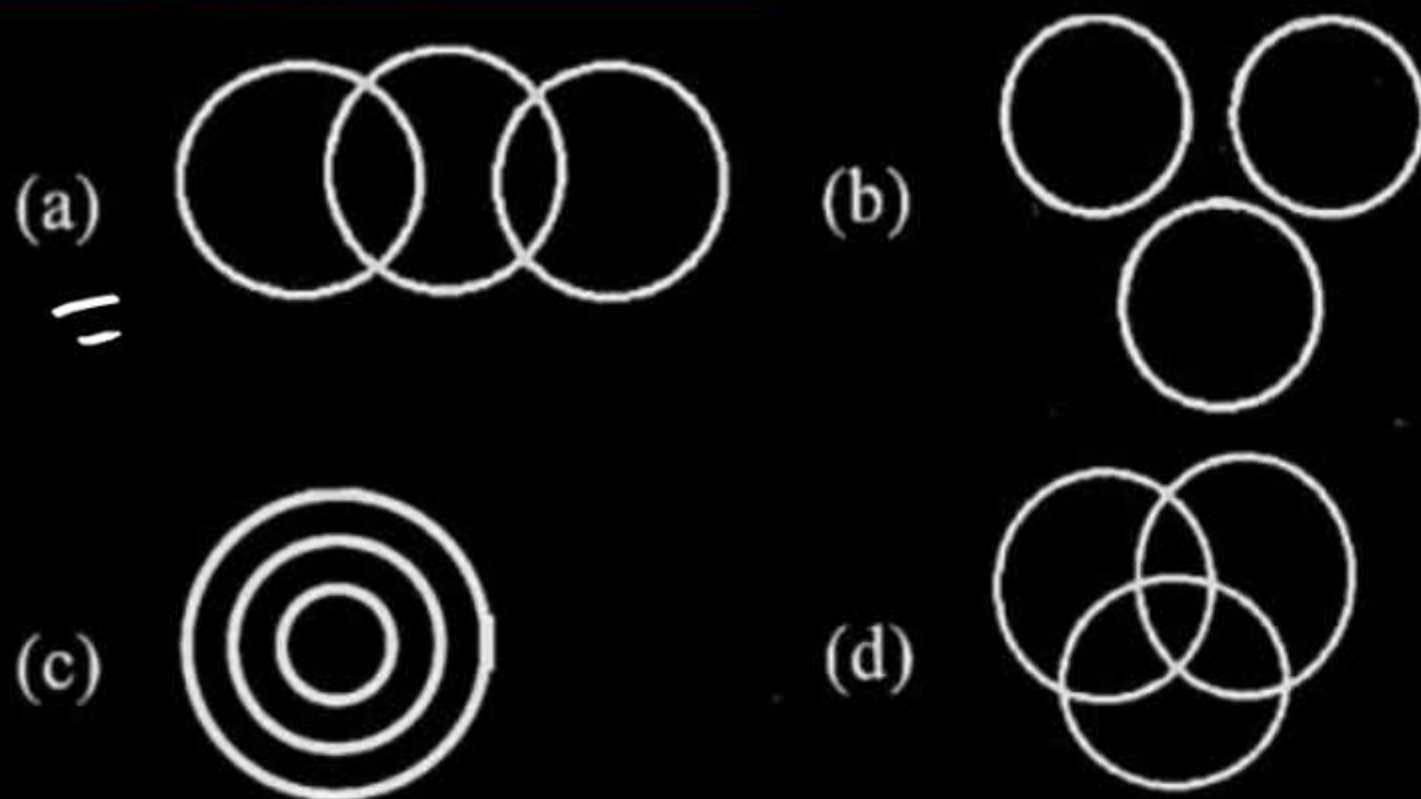


**27.** Choose the Venn diagram that best represents the relationship between the following classes.

Passenger, Airplane, Taxi

वह वेन आरेख चुनें जो निम्न वर्गों के बीच संबंध को सर्वोत्तम ढंग से दर्शाता है।

यात्री, हवाई जहाज, टैक्सी

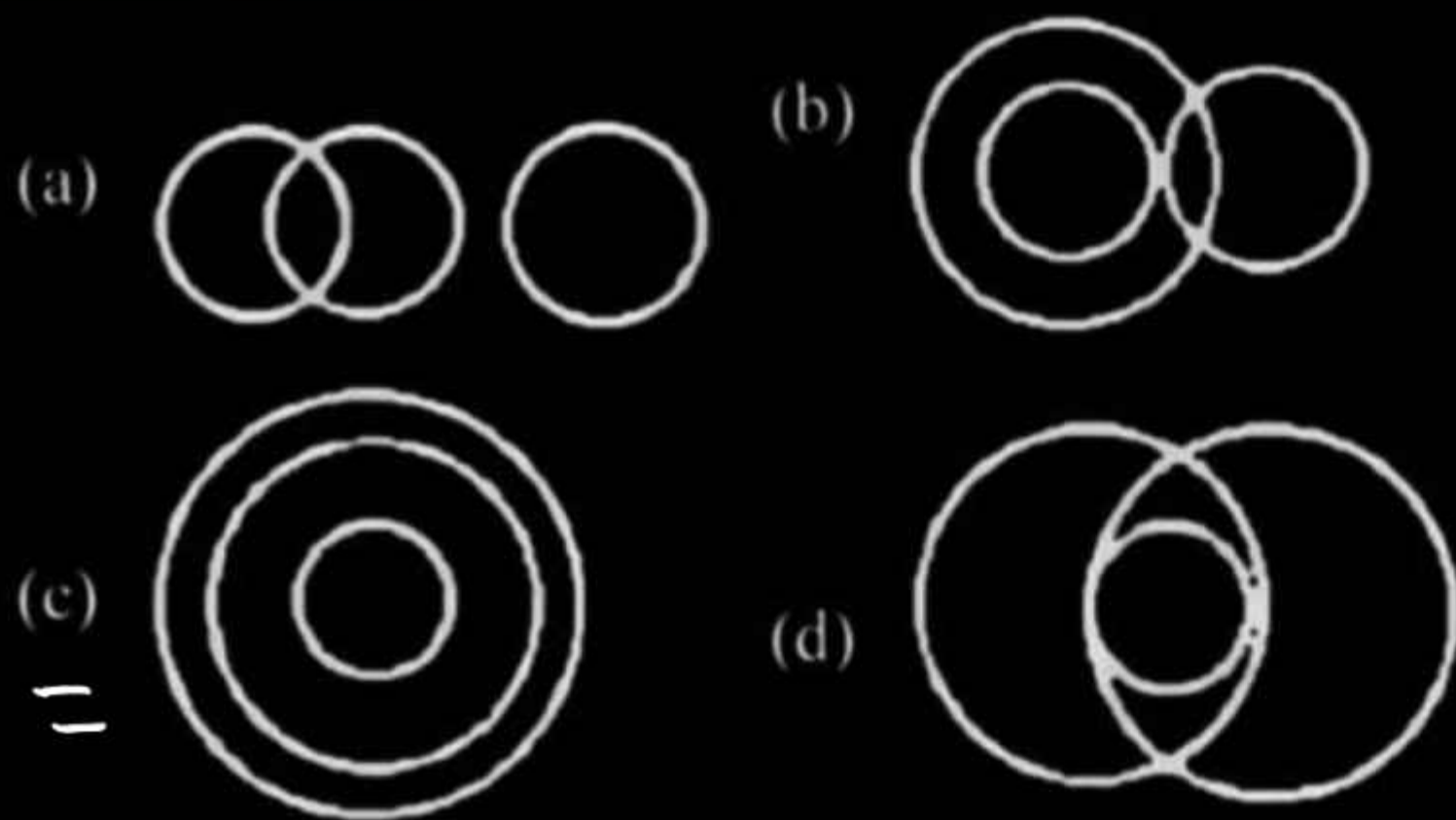




**28.** Choose the Venn diagram that best represents the relationship among the following classes.

**Cherry, Fruit, Food**

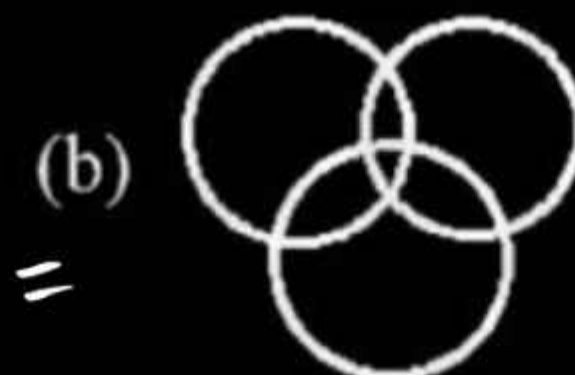
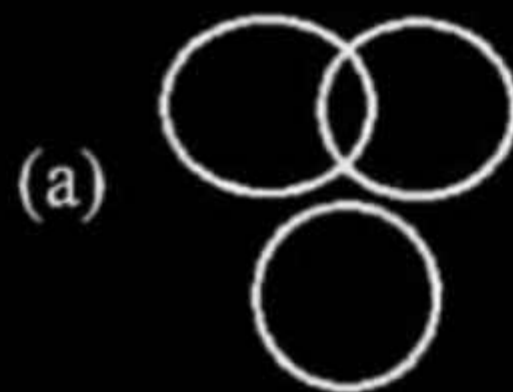
उन वेन आरेख का चयन कीजिए जो निम्नांकित वर्गों के मध्य संबंध का सर्वश्रेष्ठ निरूपण करता है।  
**चेरी, फल, खाद्य**



**29.** Select the Venn diagram that best represents the relationship between the following classes.

Engineer, Player, Poet

उस वेन आरेख का चयन करें जो निम्नलिखित वर्गों के बीच सम्बन्ध को सबसे अच्छा दर्शाता है।  
**इंजीनियर, प्लेयर, कवि**





**30.** Choose the Venn diagram that best depicts the relationship among the following classes.

Maize, Turmeric, Spices

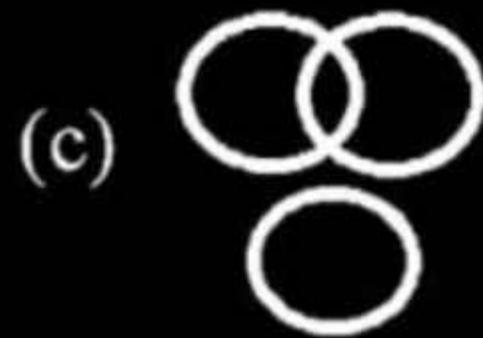
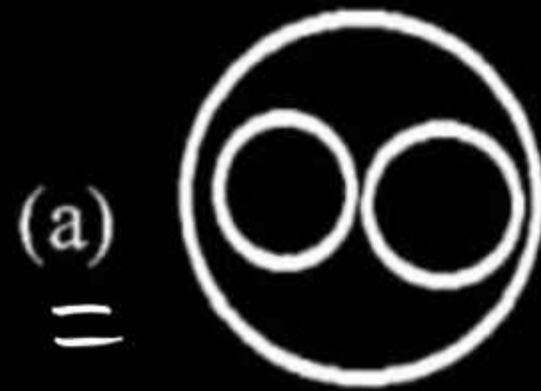
उस वेन आरेख का चयन कीजिए जो निम्नांकित वर्गों के मध्य संबंध का सर्वश्रेष्ठ चित्रण करता है।  
**मक्का, हल्दी, मसाले**



**31.** Choose the Venn diagram that best illustrates the relationship among the following classes.

Carrots, Vegetables, Potatoes

उस वेन आरेख का चयन कीजिए जो निम्नांकित वर्गों के मध्य संबंध का सर्वश्रेष्ठ चित्रण करता है।  
**गाजर, सब्जियां, आलू**





**32.** Choose the Venn diagram that best represents the relationship among the following classes. Father, Man, Carpenter

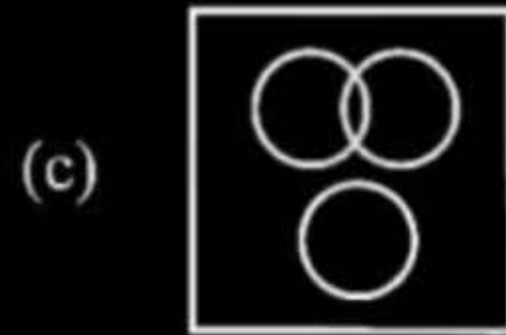
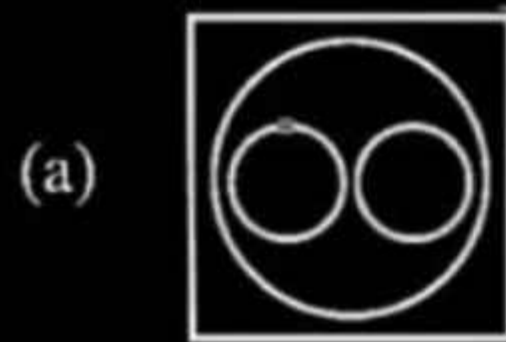
उस वेन आरेख का चयन कीजिए जो निम्नांकित वर्गों के मध्य संबंध का सर्वश्रेष्ठ निरूपण करता है।  
**पिता, पुरुष, बढ़ई**



**33.** Choose the diagram that best represents the relationship between the classes given below.

**Gold, Carbon, Metal**

वह आरेख चुनिए जो नीचे दिए गए वर्गों के बीच के सम्बन्ध का सही निरूपण करता है।  
**सोना, कार्बन, धातु**



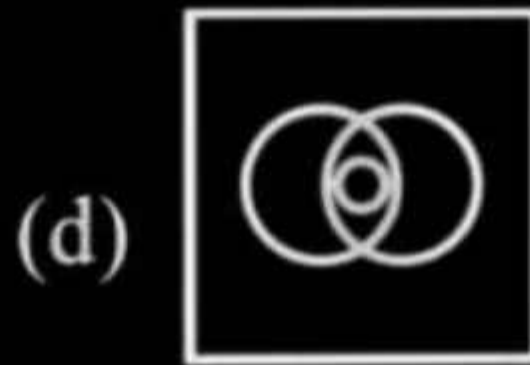

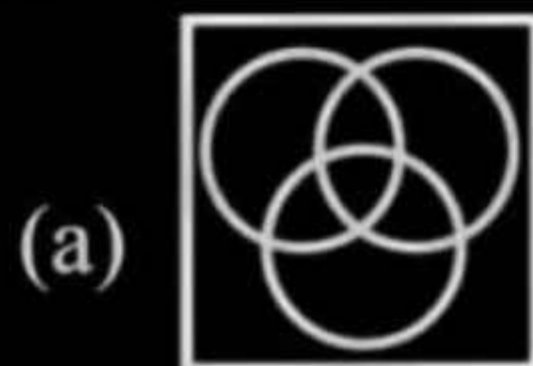


**34.** Choose the diagram that best represents the relationship between the given classes.

Towel, Pink, Blue


वह आरेख चुनिए, जो दिए गए वर्गों के बीच के सम्बन्ध का सही निरूपण करता है।

तौलिया, गुलाबी, नीला



**35. Which of the following pictures correctly shows the relationship between elephants, wolves and animals?**

निम्न में से कौन सा चित्र हाथियों, भेड़ियों तथा पशुओं के मध्य सही सम्बन्ध दर्शाता है?

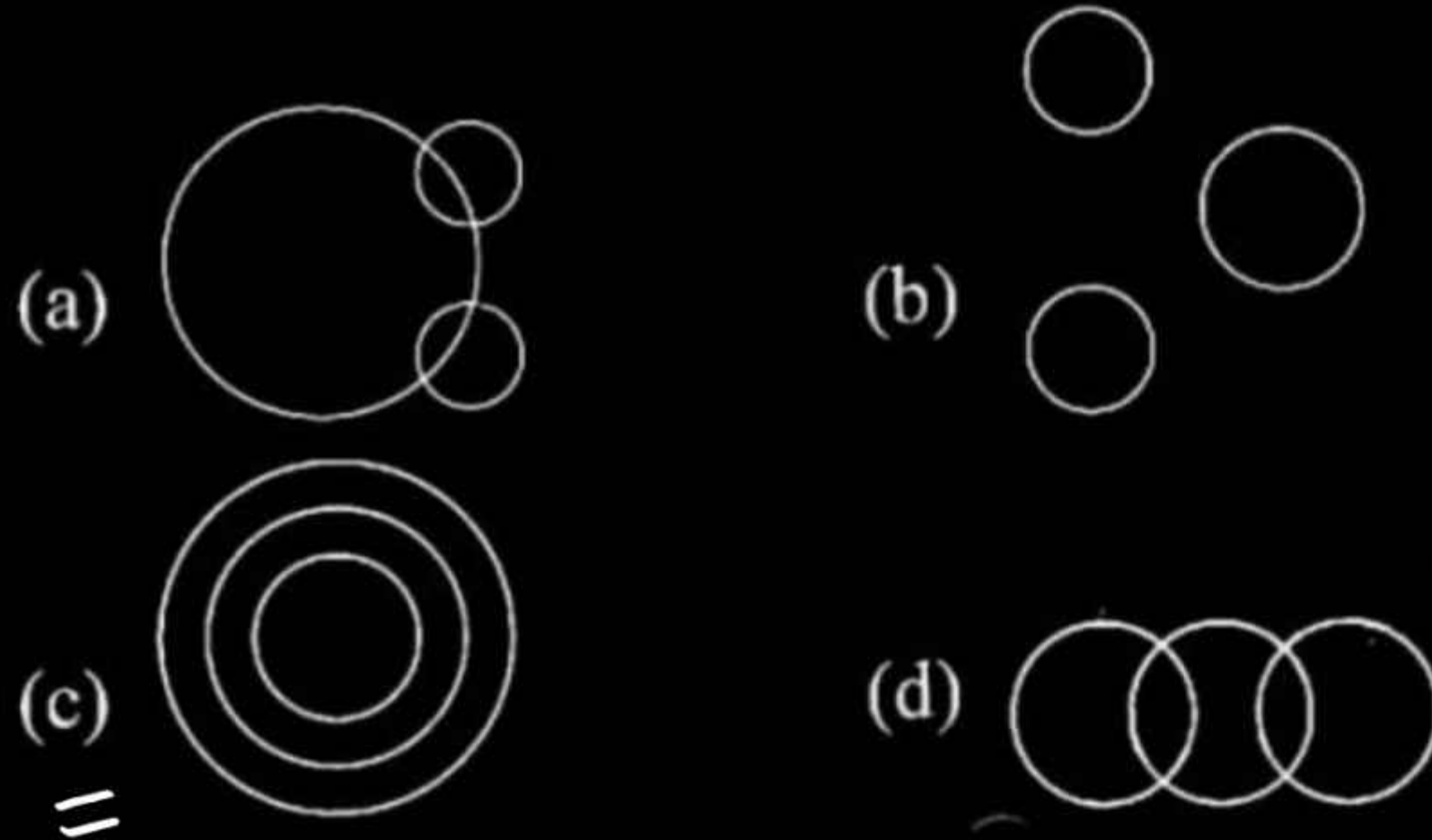


**Delhi Police Constable 2017 (Set - 4A )**




**36.** Which of the following pictures best shows the relationship between classroom, blackboard and school?

निम्न में से कौन सा चित्र कक्षा, श्यामपट्ट और विद्यालय का बेहतरीन तरीके से संबंध दर्शाता है ?



**37.** Select the option of classes which is best represented by the given Venn diagram. वर्गों के उस विकल्प का चयन करें, जो दिए गए वेन आरेख द्वारा बेहतर तरीके से निरूपित किया जाता है।



- (a) Asia, Nepal, United States एशिया, नेपाल, संयुक्त राज्य अमेरिका
- =(b) Window, building, room खिड़की, भवन, कमरा
- (c) Teacher, doctor, staff शिक्षक, चिकित्सक, कर्मचारी
- (d) Air, water, atmosphere वायु, जल, वायुमंडल

**Delhi Police Constable 15/12/2020 Shift-III**



**38.** Which of the following class sets is best depicted by the given diagram?  
निम्नलिखित में से कौन सा वर्ग समुच्चय दिए गए आरेख द्वारा सबसे बेहतर तरीके से चित्रित होता है।



- (a) Flowers, leaves, garden फूल, पत्तियाँ, बगीचा
- (b) Birds, reptiles, animals पक्षी, सरीसृप, पशु
- (c) Men, women, humans पुरुष, महिलाएं, मानव
- (d) Girls, students, daughters लड़कियाँ, विद्यार्थी, बेटियाँ



**39.** Choose the set of classes whose relationship is best illustrated by the following Venn diagram. वर्गों का वह समूह चुनें, जिसके बीच संबंध को निम्नांकित वेन आरेख द्वारा सर्वोत्तम ढंग से चित्रित किया गया है।



- (a) Architect, Farmer, Teacher वास्तुकार, किसान, शिक्षक
- (b) Father, Mother, Doctor पिता, माता, डॉक्टर
- ⇒ (c) Mother, Woman, Farmer माता, महिला, किसान
- (d) Son, Daughter, Engineer पुत्र, पुत्री, इंजीनियर



**40.** Choose the option of classes which is best represented by the given Venn diagram. वर्गों (classes) का वह विकल्प चुनें जो दिए गए वेन आरेख (Venn diagram) द्वारा सर्वोत्तम ढंग से दर्शाया गया है।



- (a) Men, husband, son पुरुष, पति, पुत्र
- (b) Asia, India, Delhi एशिया, भारत, दिल्ली
- (c) Women, mother, daughter महिलाएँ, माता, पुत्री
- (d) Daffodil, flower, sunflower डैफोडिल, फूल, सूरजमुखी