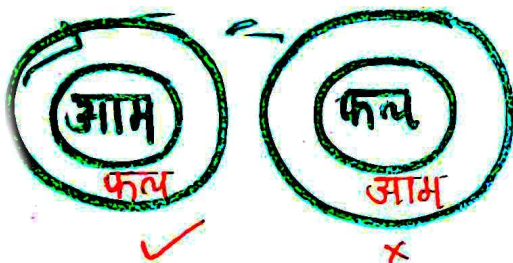


(Chapter -Venn Diagram)

सभी (All)

सभी का रिश्ता केवल एक ओर से बनता है।

आम, फल



कुछ (Some)

कुछ का रिश्ता दोनों ओर से बनता है।

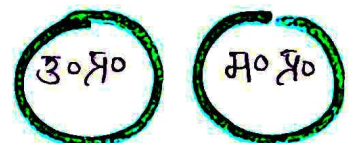
विद्यार्थी, खिलाड़ी



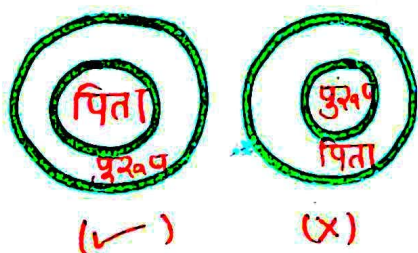
कोई नहीं (No)

कोई नहीं का रिश्ता किसी भी ओर से नहीं बनता है।

उ०प्र०, म० प्र०



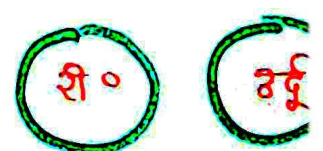
पिता, पुरुष



पिता, वकील

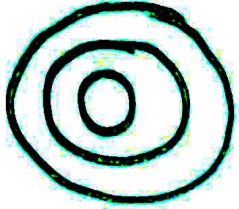


रीजनिंग, उर्दू

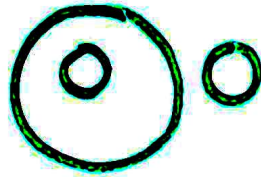
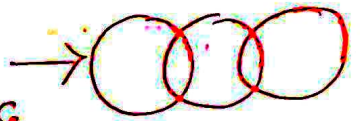


ROJGAR WITH ANKIT

सै०, मि०, घंटा
उ० प्र०, भारत, पश्चिमा




यात्री, बस ट्रेन
लाभ, फूल, सफेद



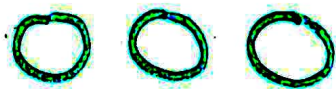
→ उ० प्र०, भारत, पाकिस्तान

नवजात शिशु, पिता, पुरुष

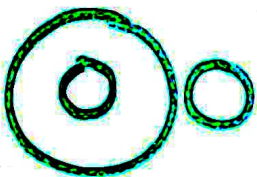


ठीस, द्रव, गैस


उ० प्र०, म० प्र०, राजस्थान



उ० प्र०, भारत, पाकिस्तान
मंगल, गृह, सूर्य



पिता पुरुष, पकील




मैखक, विद्यार्थी, खिलाड़ी



उ० प्र०, म० प्र०, भारत



मातायें, बहनें, महिलायें





विद्यार्थी, खिलाड़ी, पंक्त



ROJGAR WITH ANKIT

Ex-4 बोता, पक्षी, चमगादड़





General Titles



BUY NOW



Follow us on



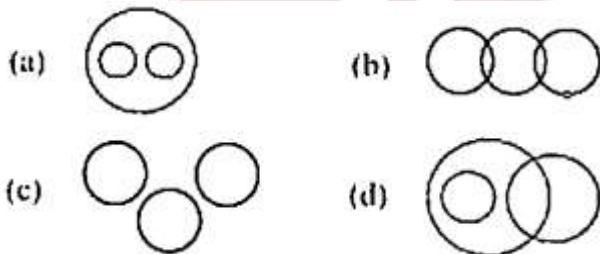
Rojgar with Ankit

1. Select the Venn diagram that best represents the relationship between the following classes.

Lawyer, Architect, Human

उस वेन आरेख का चयन करें जो निम्नलिखित वर्गों के बीच के संबंध को सबसे अच्छा दर्शाता है।

वकील, वास्तुकार, मनुष्य

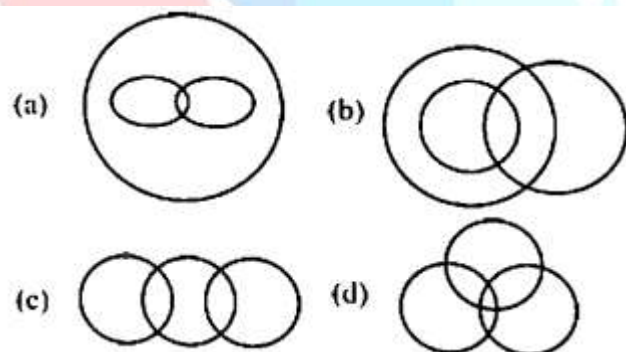


2. Select the Venn diagram that best represents the relationship between the given classes.

Graduate, Teacher, Literate

दी गई श्रेणियों के बीच सर्वश्रेष्ठ संबंध को दर्शाने वाले वेन आरेख का चयन कीजिए।

स्नातक, शिक्षक, साक्षर



3. Select the Venn diagram that best represents the relationship between the given classes.

Star, Sun, Mercury


उस वेन आरेख का चयन करें, जो दिए गए वर्गों के बीच के संबंध को सर्वोत्तम ढंग से निरूपित करता है।

तारा, सूर्य, बुध



4. Which one of the following Venn diagrams best represents the relationship between the given? Income Tax Payer, Employee, Male
- निम्नलिखित में से कौन-सा वेन आरेख, दिए गए के बीच के संबंधों को सर्वोत्तम ढंग से दर्शाता है?

आयकर दाता, कर्मचारी, पुरुष

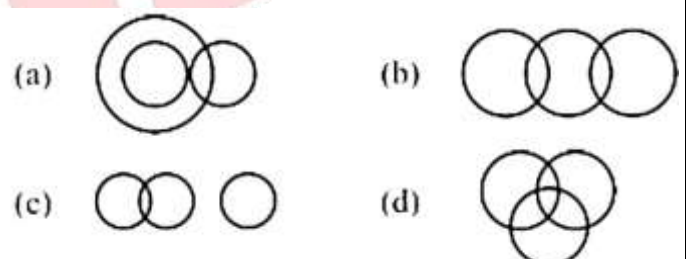


5. Select the Venn diagram that best represents the relationship between the following classes-

Engineer, Graduate, Male

उस वेन आरेख का चयन करें जो निम्नलिखित वर्गों के बीच के संबंध को सबसे अच्छा दर्शाता है-

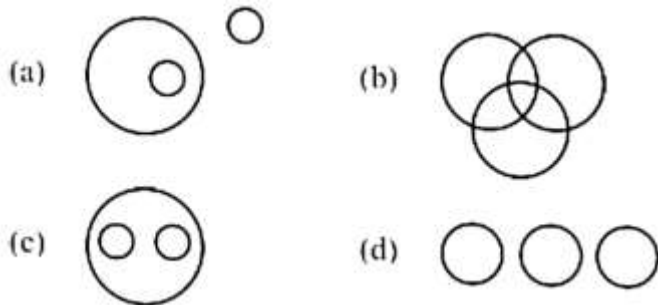
इंजीनियर, स्नातक, पुरुष



6. Select the Venn diagram that best represents the relationship between the given classes.

Wheat, Mustard, Cabbage

दी गई श्रेणियों के बीच सर्वश्रेष्ठ संबंध को दर्शाने वाले वेन आरेख का चयन कीजिए।
गेहूँ, सरसों, गोभी

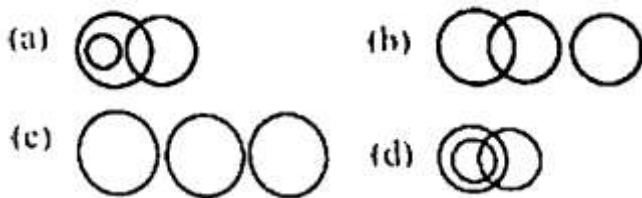


7. Which one of the following Venn diagrams best represents the relationship between the classes given below?

Utensils, spoons, steel articles

निम्नलिखित में से कौन-सा वेन आरेख, नीचे दिए गए वर्गों के बीच के संबंधों को सर्वोत्तम ढंग से दर्शाता है?

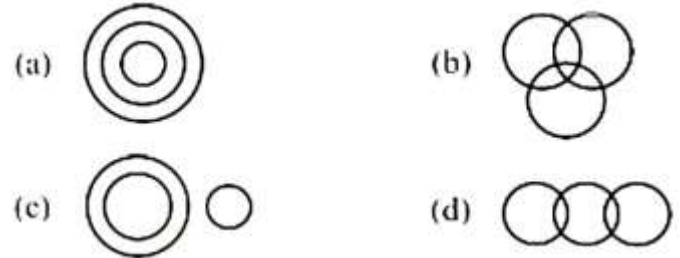
बर्तन, चम्मच, स्टील की वस्तुएँ



8. Select the Venn diagram that best represents the relationship between the following classes-
Heart, body, house

उस वेन आरेख का चयन करें जो निम्नलिखित वर्गों के बीच के संबंध को सबसे अच्छा दर्शाता है-

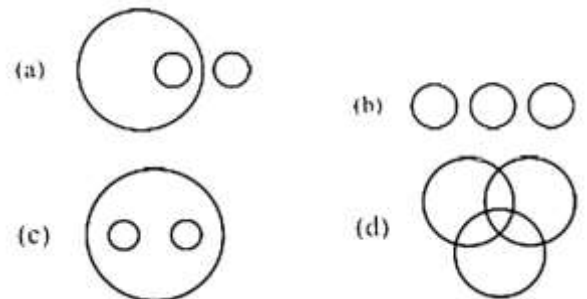
हृदय, शरीर, घर



9. Select the Venn diagram that best represents the relationship between the given classes.

Cup, table, crockery

दी गई श्रेणियों के बीच सर्वश्रेष्ठ संबंध को दर्शाने वाले वेन आरेख का चयन कीजिए।
प्याला, मेज, क्रॉकरी



10. Select the Venn diagram that best represents the relationship between the given classes?

Cow, wild animals, fox

उस वेन आरेख का चयन करें जो दिए गए वर्गों के बीच के संबंध को सर्वोत्तम ढंग से निरूपित करता है?

गाय, जंगली जानवर, लोमड़ी



1.	2.	3.	4.	5.	6.	7.	8.	9.	10.
A	A	A	D	D	D	D	C	A	C

