

## (chapter Venn diagram)

1> उस वेन आरेख का प्रयोजन कीजिये जो निम्नांकित वर्गों के मध्य संबंध का सर्वश्रेष्ठ निरूपण करता है?

1> मातापिता, प्रवर्धक, पुरुष



2> अंगूठे, उगानियाँ, आमाशय



3> फर्नीचर, कुर्सी, मेज



4> फर्नीचर, चेयर, टेबल



5> पृथ्वी, सौर प्रणाली, शुक्र



6. > हिरन , शाकभक्षी , चीता



7. > आपिवाहित , पुरुष , वकील



8. > स्कूल (S), शिक्षक (T), प्रधानाध्यापक (P)



9. > कागज , शिल्प , कला



10. > इध , बकरी , गाय , मुर्गी



11. > कलम , पेंसिल , धोतल



12. > कप , ब्लैट , बर्तन



13. > स्तनपायी , गाय , चमगादड़



14. > महिला , माता , पिता



15. > तैलगू , उर्दू , कविता



16. > खिड़की , हवावाला , घर



17. > वृक्ष , पालियाँ , पर्णछरित





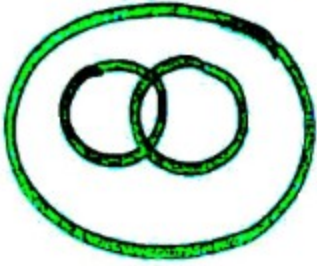
18) मासाहारं (C), शौर (L), दायी (E)



19) बृहस्पति, गृह, चन्द्रमा



20) सूचना, समाचार, इतिहास



21) गुणाष, फूल, पत्तियो



22) मिंजी, सैव, फल



23) महर, शब्द, वाक्य



૨૪૧ ભારત, રાજસ્થાન, જયપુર



૨૫૧ શુક્ર, ગૃહ, પન્દ્રમા



૨૬૧ ભડકા, વિદ્યાર્થી, ક્રિકેટર



૨૭૧ ચાત્રી, હવાઈ બહાબ, રૅન્કસી



૨૮૧ ચૈત્રી, ફાલ, બાબ



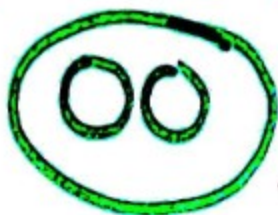
૨૯૧ રંબીનિયર, પ્લેયર, કવિ



30> मक्का, हल्दी, मसाले



31> गाजर, साबुजियां, ब्यालू



32> पिला, पुरुष, बढई



33> सोना, कार्बन, धातु



34> ताँपिया, गुप्ताषी, नीला



35> हाथियों, भैरियो, पशुओ ।

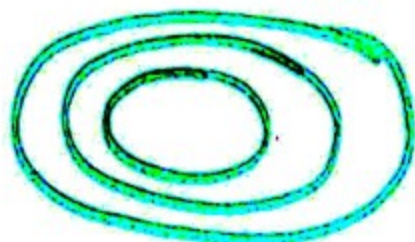




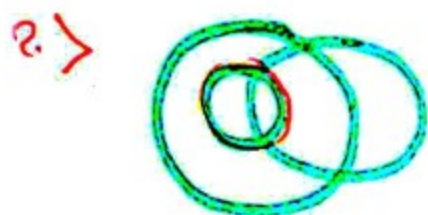
36. > कक्षा, श्यामपट्ट, और विद्यालय



37. > वर्गों के उस तरीके के विकल्प का पयन करें।  
जो दिये गये पैन आरेख द्वारा बेहतर तरीके से  
नेखपित किया जाता है।



उत्तर -> छिडकी, घावज, कमरा




उत्तर -> लडकियाँ, बिद्यार्थी, बेटियाँ



उत्तर -> माता, महिला, किसान

40)



उत्तर \* डफौडिय, फूल, सुरजमुखी





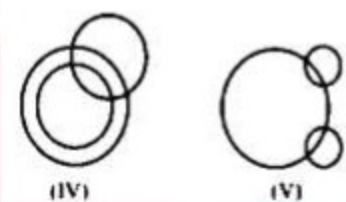


1. From the following five figures, choose the figure that shows the relationship between these three classes.

Girl / Tall / Fair

निम्न दी गई पांच आकृतियों में से उस आकृति को चुनिये, जो इन तीन वर्गों के बीच सम्बन्ध को दर्शाता है।

लड़की / लम्बी / गोरी



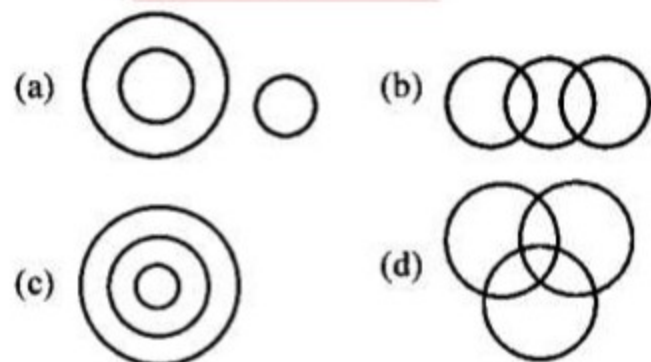
(a) (II) (b) (I) (c) (III) (d) (V)

2. Select the Venn diagram that best represents the relationship between the given set of classes.

Magazines, Movies, Books

उस वेन आरेख का चयन करें, जो दिए गए वर्गों के समुच्चय के बीच के संबंध को सर्वोत्तम ढंग से निरूपित करता है।

पत्रिकाएं, मूवीज, पुस्तकें

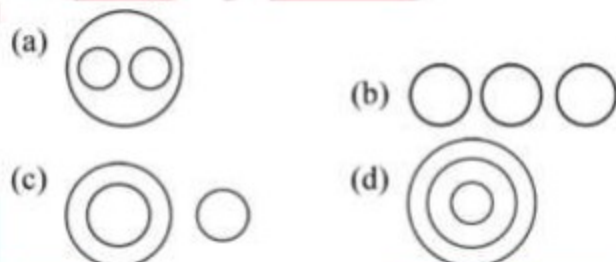


3. Select the Venn diagram that best represents the relationship between the following classes.

Music, Dance, Voice

उस वेन आरेख का चयन करें, जो निम्नलिखित वर्गों के बीच के संबंध को सर्वोत्तम ढंग से निरूपित करता है।

संगीत, नृत्य, आवाज

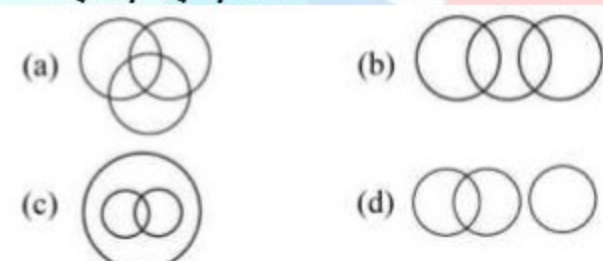


4. Choose the Venn diagram that best represents the relationship between the following classes.

Woman, Sister, Wife

उस वेन आरेख का चयन कीजिए जो निम्नलिखित वर्गों के बीच संबंध को सर्वोत्तम रूप से दर्शाता है।

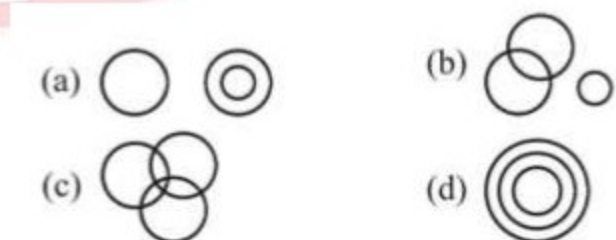
महिला, बहन, पत्नी



5. Which of the following Venn diagram shows the relationship between animals, plants and dogs?

निम्नलिखित में से कौन - सा वेन चित्र

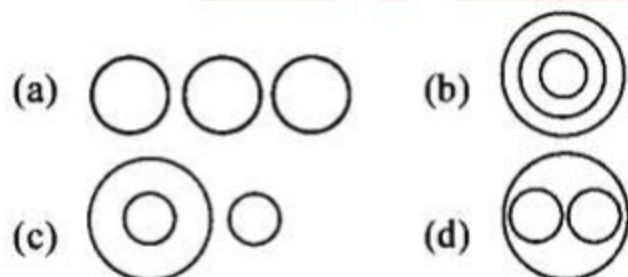
जानवरों, पौधों और कुत्तों के बीच सम्बन्ध प्रदर्शित करता है?



6. Select the Venn diagram that best represents the relationship between the following classes:

Mango, Fruits, Banana

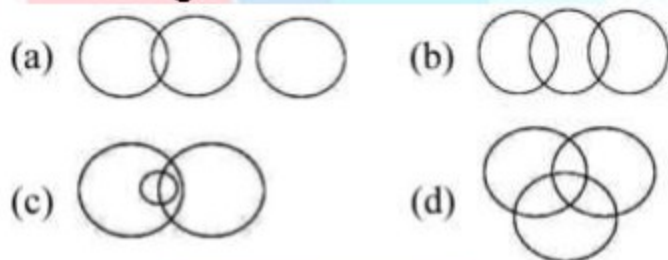
उस वेन आरेख का चयन कीजिए जो निम्नलिखित वर्गों के बीच संबंध को सर्वोत्तम रूप से दर्शाता है:  
आम, फल, केला



7. Select the Venn diagram that best represents the relationship between the following classes:

Insects, Animals, Venomous


उस वेन आरेख का चयन कीजिए जो निम्नलिखित वर्गों के बीच संबंध को सर्वोत्तम रूप से दर्शाता है:  
कीट, जन्तु, विषैला



8. Select the Venn diagram that best represents the relationship between the following set of classes.

Circle, Triangle, Quadrilateral

उस वेन आरेख का चयन करें जो निम्नलिखित वर्गों के समुच्चय के बीच के संबंध को सर्वोत्तम तरीके से दर्शाता है।  
वृत्त, त्रिभुज, चतुर्भुज



(a)



(b)



(c)



(d)

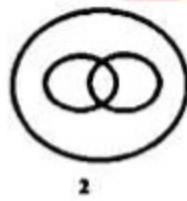
9. Choose the Venn diagram that best represents the relationship between the following classes.

Players, Humans, Students

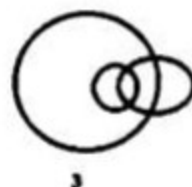
उस वेन आरेख का चयन करें जो निम्नलिखित वर्गों के बीच के संबंध को सर्वोत्तम ढंग से दर्शाता है।  
खिलाड़ी, मनुष्य, छात्र



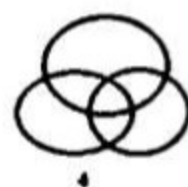
1



2



3



4

(a) 4 (b) 3 (c) 1 (d) 2

10. निम्न वेन आरेख किस विकल्प में दिए गए समूह के शब्दों के बीच सर्वोत्तम संबंध प्रदर्शित करता है?

(a) हाथी, जिराफ, शाकाहारी  
(b) सोना, चांदी, तांबा  
(c) सेकण्ड, मिनट, घंटा  
(d) स्त्री, पुरुष, माताएं



1.	2.	3.	4.	5.	6.	7.	8.	9.	10.
B	A	C	C	A	D	C	B	D	A