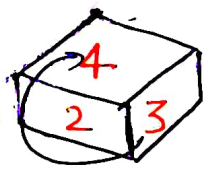
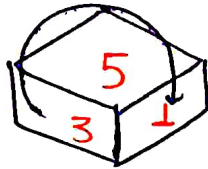


ROJGAR WITH ANKIT

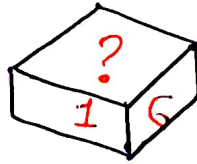
1) एक ही पासा के तीन अलग - अलग चित्र दिये गये हैं। ती मश्न चिन्ह के स्थान पर क्या आना चाहिये ?



(I)



(II)

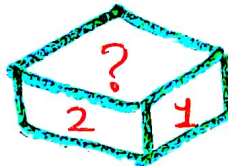
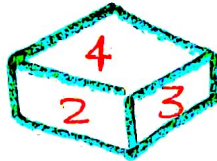
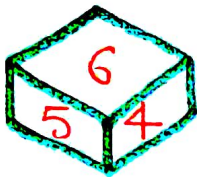


(III)

3 - 2 - 4
~~3~~ - 5 - 1
 6

Ans - 5

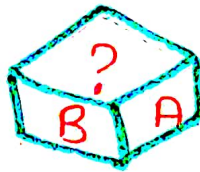
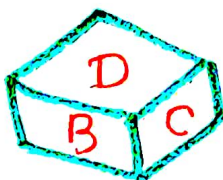

a) 2 b) 3 c) 4 d) 5



4 - 5 - 6
~~4~~ - 3 - 2
 1

Ans - 3

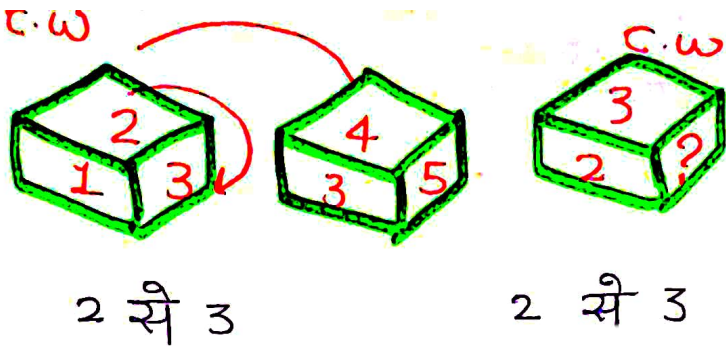
a) 1 b) 3 c) 4 d) 6



D - E - F
~~D~~ - C - B
 A

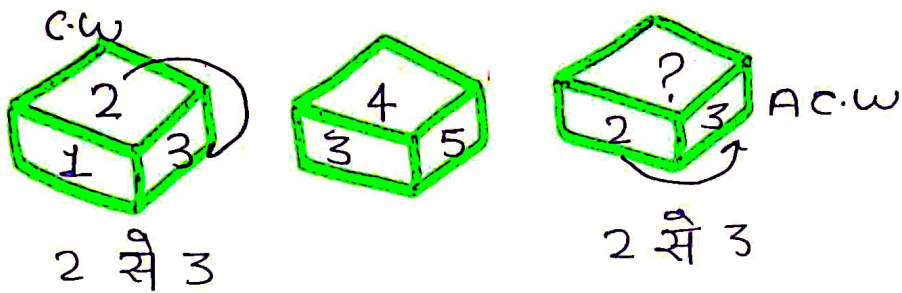
Ans - C

ROJGAR WITH ANKIT



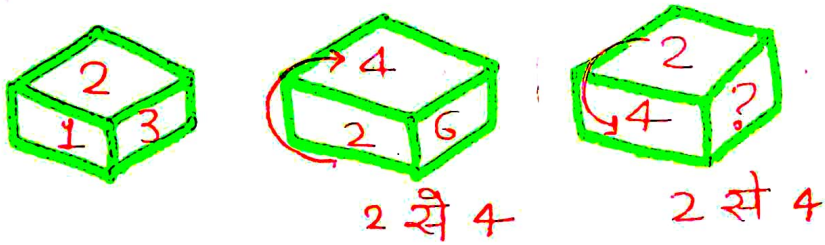
3-1-2
~~3~~-4-5
 6

a) 1 b) 4 c) 5 d) 6



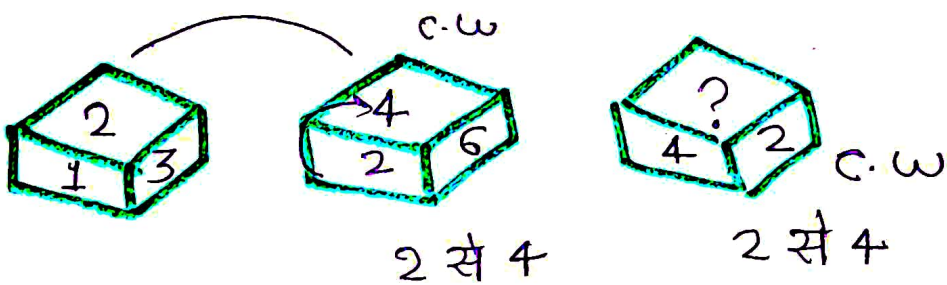
3-1-2
~~3~~-4-5
 6

a) 1 b) 4 c) 5 d) 6



2-3-1
~~2~~-4-6
 5

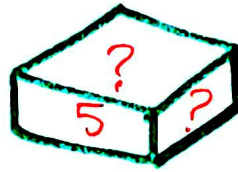
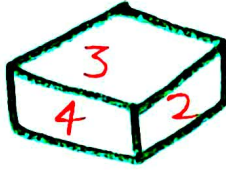
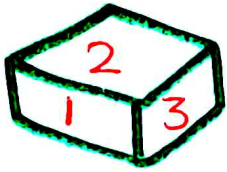
~~a) 1~~ b) 3 c) 5 d) 6



2-3-1
~~2~~-4-6
 5

a) 1 b) 3 c) 5 ~~d) 6~~

ROJGAR WITH ANKIT

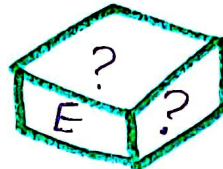
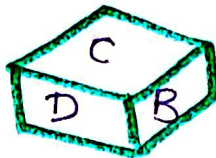
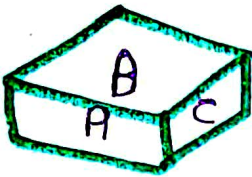


a) 1, 4

~~b) 1, 2~~

c) 2, 3

d) 3, 6



a) A, D

~~b) A, B~~

c) B, C

d) C, F



General Titles



BUY NOW



Follow us on

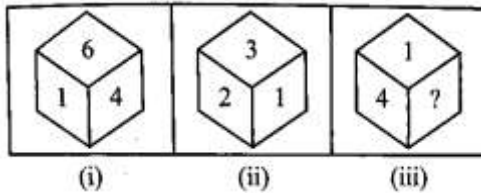


Rojgar with Ankit

1. Three positions of a dice are given below. In position (iii), which number will come in place of the question mark (?). If the numbers on the dice are from 1 to 6?

नीचे एक पासे की तीन स्थितियाँ दी गई हैं। स्थिति (iii) में प्रश्न चिन्ह (?) के स्थान पर कौन-सा अंक आएगा। यदि पासे पर अंक 1 से 6 तक अंकित हैं?

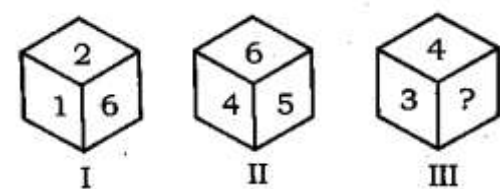
- (a) 3
(b) 2
(c) 6
(d) 5



2. If three different pictures of the same dice are given, then what should come in place of the question mark?

एक ही पासा के तीन अलग-अलग चित्र दिए गए हैं तो प्रश्न चिन्ह के स्थान पर क्या आना चाहिए?

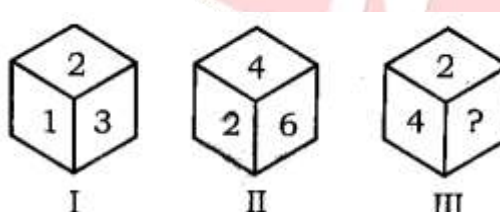
- (a) 2
(b) 3
(c) 5
(d) 6



3. If three different pictures of the same dice are given, then what should come in place of the question mark?

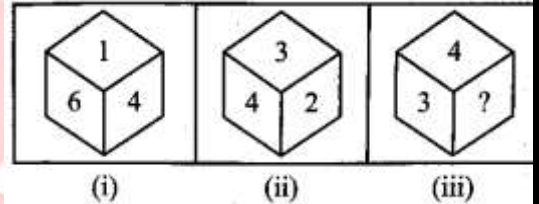
एक ही पासा के तीन अलग-अलग चित्र दिए गए हैं तो प्रश्न चिन्ह के स्थान पर क्या आना चाहिए?

- (a) 1
(b) 3
(c) 5
(d) 6



4. Which number will come in place of the question mark (?)?
प्रश्न चिन्ह (?) के स्थान पर कौन-सा अंक आएगा?

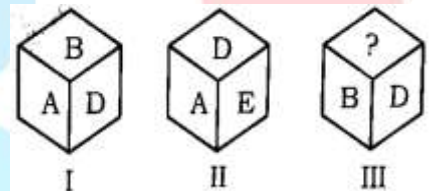
- (a) 5
(b) 6
(c) 1
(d) 2



5. If three different positions of the same dice are given, what should come in place of the question mark?

एक ही पासा के तीन अलग-अलग स्थितियाँ दिए गए हैं तो प्रश्न चिन्ह के स्थान पर क्या आना चाहिए?

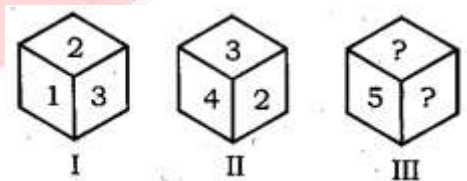
- (a) a
(b) c
(c) e
(d) C या F



6. If three different pictures of the same dice are given, what should come in place of the question mark?

एक ही पासा के तीन अलग-अलग चित्र दिए गए हैं तो प्रश्न चिन्ह के स्थान पर क्या आना चाहिए?

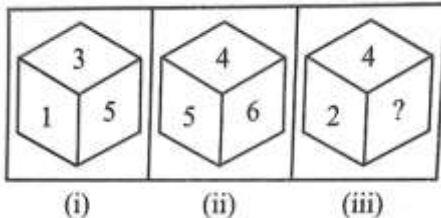
- (a) 1,4
(b) 1,2
(c) 2,3
(d) 3,6



7. In case (iii), which number will come in place of the question mark (?)?

स्थिति (iii) में प्रश्न चिन्ह (?) के स्थान पर कौन - सा अंक आएगा?

- (a) 1
(b) 3
(c) 5
(d) 6



8. If three different pictures of the same dice are given, what should come in place of the question mark?

एक ही पासा के तीन अलग-अलग चित्र दिए गए हैं तो प्रश्न चिन्ह के स्थान पर क्या आना चाहिए?

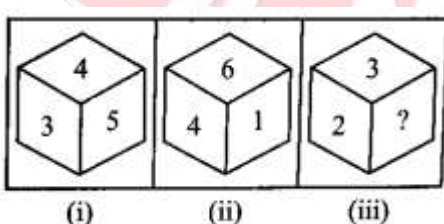
- (a) 1
(b) 2
(c) 5
(d) 6



9. In case (iii), which number will come in place of question mark (?)?

स्थिति (iii) में प्रश्न चिन्ह (?) के स्थान पर कौन-सा अंक आएगा?

- (a) 1
(b) 4
(c) 5
(d) 6



10. Three different pictures of the same dice are given. What should come in place of question mark?
एक ही पासा के तीन अलग-अलग चित्र दिए गए हैं तो प्रश्न चिन्ह के स्थान पर क्या आना चाहिए?

- (a) E,A
(b) F,C
(c) E,F
(d) B, F



1.	2.	3.	4.	5.	6.	7.	8.	9.	10.
C	C	A	C	D	B	B	C	C	A